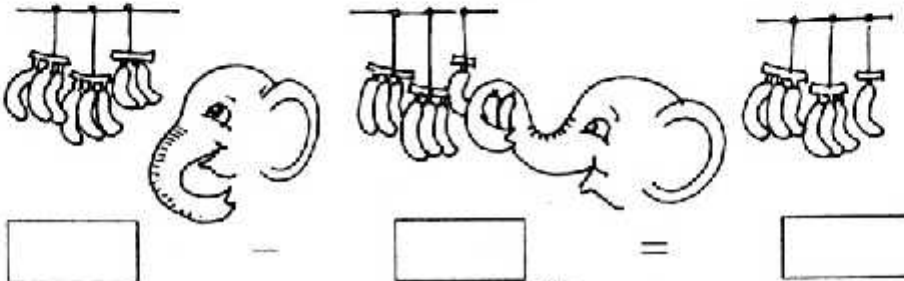

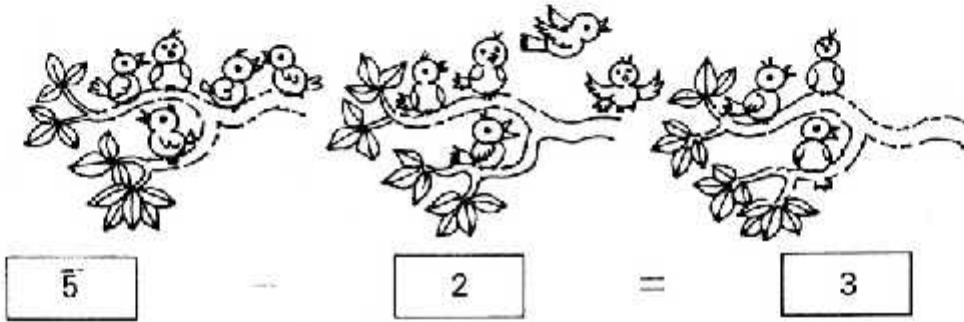


# घटना



- इन चित्रों से कहानी बनाओ।
- ऊपर बने चित्रों से घटाने के सवाल बनाओ। ● और चित्र और सवाल पट्टी पर बनाओ।


---

## दोगुना करो, आधा करो

दोगुना


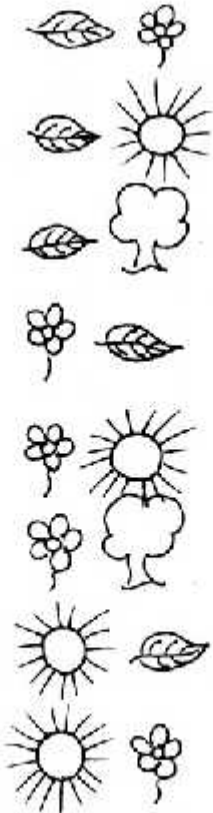
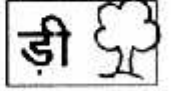




आधा


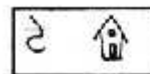



- आस पास से फूल, पत्तियाँ, पुराने कागज़ इकट्ठे करो।
- इनको आधा-आधा करने की कोशिश करो।

# चित्र देखकर शब्द बनाओ



- ऐसे और भी जोड़े पढ़ती पर बनाओ।

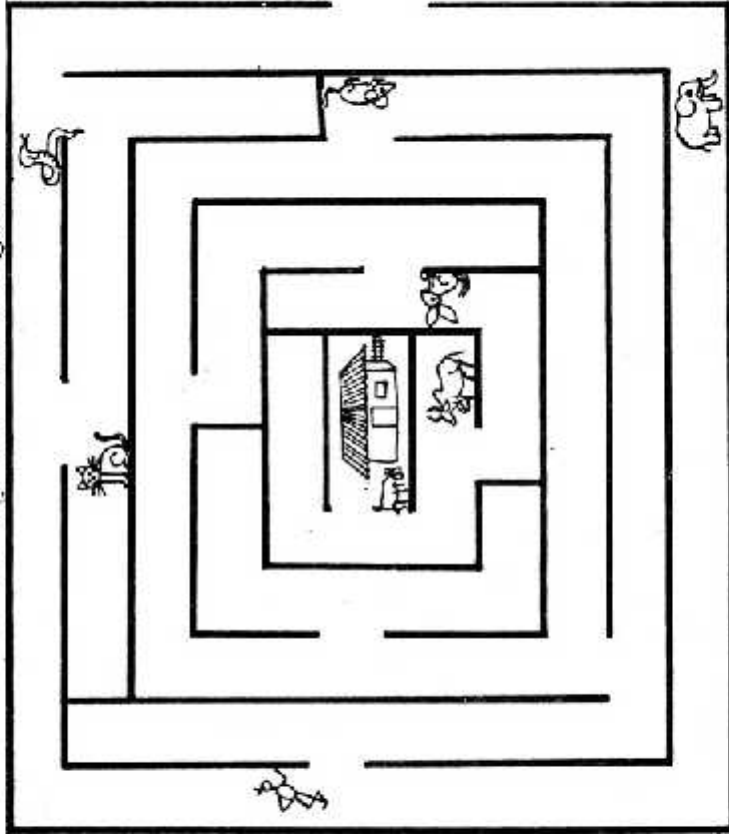


- अब चित्र भी खुद ही चुनो और पढ़ती पर जोड़े बनाओ।



## तिजिया का घर

जरा तिजिया को उसके घर तक तो पहुँचाओ। और दूसरे रास्ते बाहर निकालो। ये भी बताओ कि हरेक से तिजिया की क्या बातचीत हुई।



जाते में


आते में


- क्या तुन तीलियाँ रखकर ऐसी भूल भुलैया बना सकते हो।
- बिल्ली को चूहे तक पहुँचाओ। और सौंप को गाय तक। रास्ते में सौंप को खरगोश मिला-सही या गलत? क्या बिल्ली को रास्ते में हाथी मिलेगा।

## खेल

बाहर से कुछ काड़ियाँ, ले आओ। काड़ियों को बराबर-बराबर तोड़ लो। गिन कर दस काड़ियाँ निकालो। उन्हें एक धागे से बांध कर बंडल बना लो। 10-10 काड़ियों के 4-5 बंडल बनाओ।

अब बंडल और काड़ी का खेल खेलो। खेल दो टीमों के बीच होगा। हर टीम में अधिक से अधिक 3 बच्चे हो सकते हैं। हर टीम 4 बंडल और 9 काड़ियाँ ले ले।

कोई भी एक टीम शुरू करे। जो भी संख्या वह टीम मांगे (बोले) उतनी काड़ियाँ दूसरी टीम को दिखानी हैं। बंडल नहीं खोल सकते। यदि दूसरी टीम ने सही दिखाया तो उसे 1 अंक मिलेगा। अगर कोई टीम काड़ियाँ नहीं दिखा सके तो मांगने वाली टीम को वही संख्या दिखानी होगी। अगर मांगने वाली टीम ने काड़ियों से वही संख्या दिखा दी तो उसे 1 अंक मिलेगा।

अंको का हिसाब

टीम 1	टीम 2
1 अंक	1 अंक
0 अंक	1 अंक
1 अंक	1 अंक

ऐसी तालिका से खेल में मदद मिलेगी।

बंडल - काड़ियाँ	
1 बंडल	10 काड़ियाँ
2.....	.....
3.....	.....

काड़ी काड़ी गाड़ी गाड़ियाँ .....	संख्या संख्याएँ शाखा शाखाएँ .....	टीम को दो लता को दो .....
--	---	---------------------------------

अब कुछ सवाल मेरे लिये भी कर दो। मुझे चाहिये

13 काड़ियाँ। कितने बंडल दोगे और कितनी काड़ियाँ? 13 काड़ियाँ

1 बंडल से अधिक हैं और 2 बंडल से कम। एक

बंडल से कितनी अधिक हैं?

25 काड़ियाँ



2 बंडल 5 काड़ियाँ

18 काड़ियाँ

.....बंडल .....काड़ियाँ

30 काड़ियाँ

11 काड़ियाँ

● ऐसे और भी सवाल करो। एक दूसरे के लिये बनाओ।

2 बंडल 8 काड़ियाँ



28 काड़ियाँ

1 बंडल 6 काड़ियाँ

..... काड़ियाँ

2 बंडल 3 काड़ियाँ

.....

1 बंडल 9 काड़ियाँ

.....

2 बंडल 2 काड़ियाँ

.....

---

## इ बाबा शेर

इमरत और नत्थू डोल से टिककर बात कर रहे थे। शेर ने उनको देख लिया।



शेर उन पर झपटने के लिये डोल पर चढ़ा। लेकिन डोल खिसक कर टेढ़ा होने लगा।

नत्थू बोला:अहा! तभी शेर डोल के अंदर गिर गया। नत्थू और इमरत ने डोल पूरा उलट दिया। शेर अंदर बंद हो गया।



● आगे क्या हुआ होगा चित्र बनाओ।

## जोड़ एवं घटा

1. एक डाल पर 3 चिड़ियाँ थीं, 2 और आकर बैठ गईं कितनी हुईं ?



$3+2=5$

2. एक डाल पर 5 चिड़ियाँ थीं, 2 उड़ गईं कितनी बचीं ?



3. मोहन के पास 4 अंटी थीं। उसने रानी को चार अंटी दीं। मोहन के पास कितनी अंटियाँ बचीं ?

4. मोहन के पास 1 आम था। रामू ने उसे 3 आम और दिये। मोहन के पास कितने आम हो गये— बताओ?

5. शाहपुर से एक जीप में 9 लोग बैठे 3 सवारी पाढर उतर गईं। कितने बचे ? फिर 3 सवारी बढ़ीं। कितने हो गये?