




चार चने

पैसा पास होता तो चार चने लाते
चार में से एक चना तोते को खिलाते
तोते को खिलाते तो टॉव-टॉव गाता
टॉव-टॉव गाता तो बड़ा मज़ा आता।



पैसा पास होता तो चार चने लाते
चार में से एक चना घोड़े को खिलाते
घोड़े को खिलाते तो पीठ पर बिठाता
पीठ पर बिठाता तो बड़ा मज़ा आता।

पैसा पास होता तो चार चने लाते
चार में से एक चना चूहे को खिलाते
चूहे को खिलाते तो दाँत टूट जाता
दाँत टूट जाता तो बड़ा मज़ा आता।



चलो अभ्यास कर लें....

$\begin{array}{r} 6 \\ -2 \\ \hline \end{array}$	$\begin{array}{r} 23 \\ +12 \\ \hline \end{array}$	$\begin{array}{r} 20 \\ +10 \\ \hline \end{array}$	$\begin{array}{r} 3 \\ \times 2 \\ \hline \end{array}$	$\begin{array}{r} 8 \\ -3 \\ \hline \end{array}$
$\begin{array}{r} 15 \\ +12 \\ \hline \end{array}$	$\begin{array}{r} 22 \\ -11 \\ \hline \end{array}$	$\begin{array}{r} 47 \\ -33 \\ \hline \end{array}$	$\begin{array}{r} 9 \\ -8 \\ \hline \end{array}$	$\begin{array}{r} 4 \\ +5 \\ \hline \end{array}$
$\begin{array}{r} 14 \\ +11 \\ \hline \end{array}$	$\begin{array}{r} 5 \\ \times 2 \\ \hline \end{array}$	$\begin{array}{r} 13 \\ +31 \\ \hline \end{array}$	$\begin{array}{r} 5 \\ +5 \\ \hline \end{array}$	$\begin{array}{r} 3 \\ \times 5 \\ \hline \end{array}$
$\begin{array}{r} 6 \\ +3 \\ \hline \end{array}$	$\begin{array}{r} 5 \\ -3 \\ \hline \end{array}$	$\begin{array}{r} 25 \\ -25 \\ \hline \end{array}$	$\begin{array}{r} 7 \\ -7 \\ \hline \end{array}$	$\begin{array}{r} 9 \\ -6 \\ \hline \end{array}$
$\begin{array}{r} 8 \\ +2 \\ \hline \end{array}$	$\begin{array}{r} 4 \\ -2 \\ \hline \end{array}$	$\begin{array}{r} 6 \\ \times 4 \\ \hline \end{array}$	$\begin{array}{r} 4 \\ \times 3 \\ \hline \end{array}$	$\begin{array}{r} 4 \\ \times 5 \\ \hline \end{array}$


- ऐसे और भी सवाल करो पट्टी पर, कापी पर, धूल में।
- अपने दोस्त के लिए और सवाल बनाओ। उसके बनाए सवाल तुम करो। यदि तुम्हें और बड़ी संख्याएँ आती हैं तो उनसे भी सवाल बनाओ और करो।

$\begin{array}{r} 25 \\ -13 \\ \hline \end{array}$	$\begin{array}{r} 2 \\ \times 10 \\ \hline \end{array}$
--	---


चिड़िया का बच्चा कैसे छूटा




1. छुटकी और मनसू को चिड़िया का एक बच्चा मिला।



2. छुटकी ने उसे एक पिंजरे में रखदिया। पिंजरा खिड़की पर रखदिया।



3. चिड़ा और चिड़ी अपने बच्चे को ढूँढते हुए आए। दोनों अपने बच्चे को देखकर बड़े खुश हुए।



4. पर बच्चा पिंजरे में बंद था। उसको छुड़ाना था। चिड़ा चिड़ी एक टहनी लेकर आए। टहनी को पिंजरे के खूंटे में डाला। दोनों तरफ से पकड़ा। पिंजरा ऐसे उठा कर ले उड़े।

5. फिर वे एक चूहे को बुला लाए। चूहे ने पिंजरे के तार कुतर दिए। चिड़ा चिड़ी अपने बच्चे को साथ उड़ा ले गए।

अंक पैटर्न

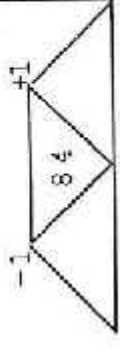
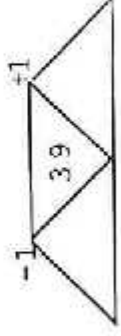
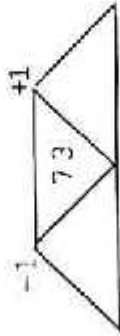
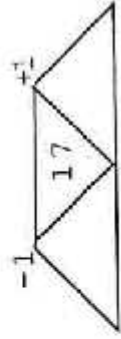
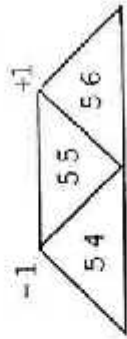
हर घर में दिया हुआ जोड़ करो। जिन घरों में जोड़ कर 3 आया है उनमें पीला रंग भरो। जिनमें 4 आया है उनमें हरा रंग भरो। ऐसे ही और

अंको के लिए अलग-अलग रंग चुनो और उनके घरों में भरो।

$1+1=2$							
$2+1=3$	$1+2=$						
$3+1=4$	$2+2=$	$1+3=$					
$4+1=5$	$3+2=$	$2+3=$	$1+4=$				
$5+1=6$	$4+2=$	$3+3=$	$2+4=$	$1+5=$			
$6+1=7$	$5+2=$	$4+3=$	$3+4=$	$2+5=$	$1+6=$		
$7+1=8$	$6+2=$	$5+3=$	$4+4=$	$3+5=$	$2+6=$	$1+7=$	
$8+1=9$	$7+2=$	$6+3=$	$5+4=$	$4+5=$	$3+6=$	$2+7=$	$1+8=$

अगली और पिछली संख्या

दी गई संख्या से एक कम और एक ज्यादा संख्या का कार्ड ढूंढने का खेल खेलो।



गुरुजी की नज़र में...

विद्यार्थी का नाम _____


पिता का नाम _____

तीन महीने बाद _____

छह महीने बाद _____

साल के अंत में _____

पाठ्यक्रम में लिखे बिन्दुओं को ध्यान में रखते हुए, उपयुक्त जगह में विद्यार्थी का आकलन भरना है।




डॉक्टर



चीखू



खदबदिया



बोडो



भीरू



चिकिचां



अगडम



फुदकी

ISBN: 978-81-87171-57-7



9 788187 171577



एकलव्य

मूल्य: ₹ 55.00



A0532H