

खुरी

खुरी




कक्षा २

Vidya Bhawan

Udaipur






मेरी चित्र अलबम



माँ

मेरी सहेली

मेरे मास्साब / मेरी बहनजी




मेरा दोस्त

माँ

मध्यप्रदेश शासन के आदेश क्रमांक 203/40/20-3/90 दिनांक 2-2-90 के तहत चयनित शालाओं के लिए एकलव्य द्वारा तैयार यह शैक्षिक सामग्री, राज्य शैक्षिक अनुसंधान एवं प्रशिक्षण परिषद द्वारा प्रकाशित एवं राजकमल आफसेट प्रिंटर्स, भोपाल द्वारा मुद्रित।

अँट चला



अँट चला, भई ! अँट चला
हिलता डुलता अँट चला
इतना अचा अँट चला
अँट चला, भई ! अँट चला ।

अँची गरदन , अँची पीठ ।
पीठ उठाये अँट चला ।

बालू है, तो होने दो,
बोझ अँट को ढीने दो ।
नहीं फँसेगा बालू में -
बालू में भी अँट चला ।



जब थककर बैठेगा अँट
किस करवट बैठेगा अँट ?

बता सकेगा कौन भला !
अँट चला, भई ! अँट चला ।

- अँट से अँची चीजों के नाम पर गोला लगाओ—
कुत्ता शाला बिल्ली पहाड़ मैस ताड़
हाथी चूहा साइकिल खंभा
- अँट के नीचे से क्या-क्या निकल सकता है ?
- अँट के ऊपर से क्या-क्या निकल सकता है ?


अलग निकालो

कौआ, मोर, इमली, तोता
बिना पंख के कौन होता ?




मछली, कछुआ, मेंढक, बन्दर
कौन नही पानी के अन्दर ?

भैंस, बकरी, कुत्ता, गाय
ऐसा कौन जो घास न खाए ?



डाल डाला
निकाल निकाला

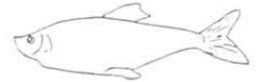
पत्ता पत्तल पकता
पकड़ पड़ता पहाड़





पेड़, पत्ता, जूता; डाल
इनमें से एक अलग निकाल

- सभी झुंड के पास बने खाली गोले में, झुंड से अलग चीज का चित्र बनाओ।
- हर चित्र के पास उसका नाम लिखो।
- चित्रकार्ड या बाहर से सामग्री लाकर और ऐसी पहलियां बनाओ।

अलग करो और नाम लिखो।

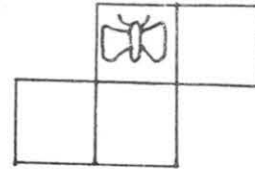
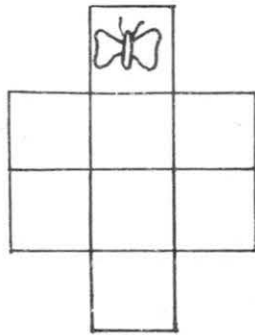
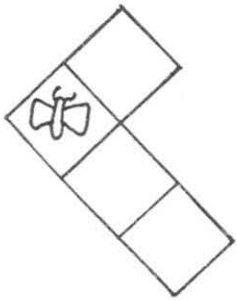
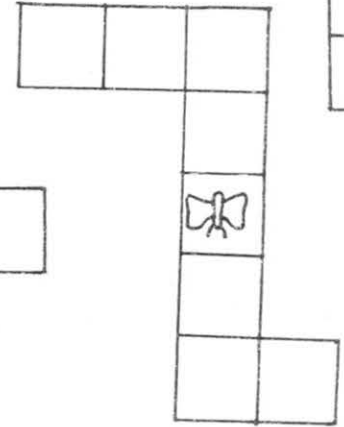
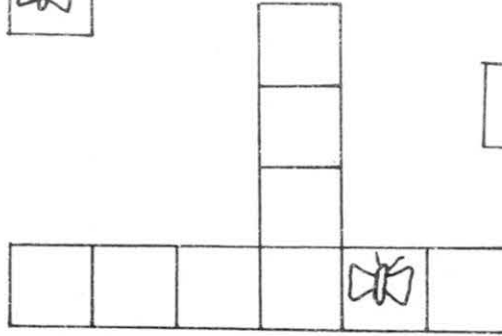
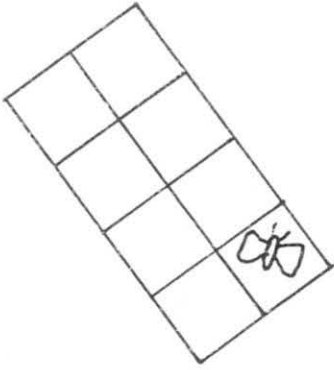
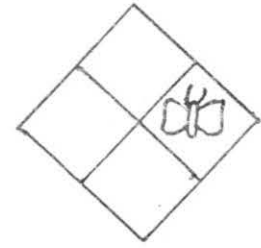
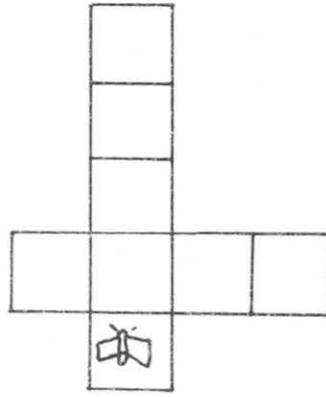


चार पैर वाले	पानी में रहने वाले	उड़ने वाले



तितली और घर



- हर खाली घर में एक तितली बनाओ।



- ऊपर बने चित्रों में घर गिनो। सबसे ज्यादा घर वाले चित्रों में पीला रंग करो।
- सबसे कम घर वाले चित्रों में हरा रंग भरौ।
- आठ घर वाले कितने चित्र हैं? • चार घर वाले --- चित्र है।
- कौनसी आकृति सबसे बड़ी है? पट्टी पर या धूल में ऐसी और भी आकृतियाँ बनाओ। उनमें कंकड़ रखो।

मकड़ी-ककड़ी-लकड़ी

हमने तीन चीजें देखी
दादा तीन चीजें देखी
रक डाल पर थी इक मकड़ी
लकड़ी पर बैठी थी मकड़ी
मकड़ी खा रही थी ककड़ी
लकड़ी, मकड़ी, ककड़ी
मकड़ी, ककड़ी, लकड़ी
ककड़ी, लकड़ी, मकड़ी



हमने तीन चीजें देखी
दादा तीन चीजें देखी
रक रवेत में थी कुछ बालू
बालू पर बैठा था भालू
भालू खा रहा था आलू
बालू, भालू, आलू
भालू, आलू, बालू
आलू, बालू, भालू

- खाली जगह में कविता के चित्र बनाओ।



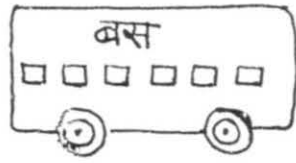
आलू	आला
भालू	भाला
बालू	बाला

- टिल्लू ककड़ी खा रहा है।
- सूरता ककड़ी - - - - -।
- टिल्लू ने ककड़ी खाई।
- सूरता ने - - - - -।


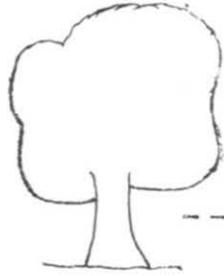
मकड़ी	मकड़ियाँ
लकड़ी	लकड़ियाँ
ककड़ी	ककड़ियाँ

• चित्र पूरा करो और नाम लिखो •

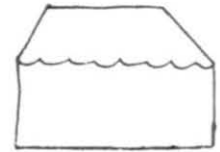
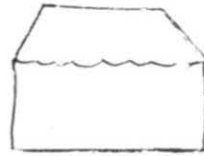
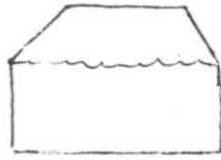
६ □
छह खिड़कियाँ



५
पाँच आम



२
दो दरवाजे



४
चार मछलियाँ



• बाहर से कंकड़ लाकर बनाई चीजों पर जमाओ ।

• बस, खिड़की, आम, पेड़, घर, मछली, बोटल, दरवाजा

एक

अनेक

खिड़की

खिड़कियाँ

दरवाजा

मछली

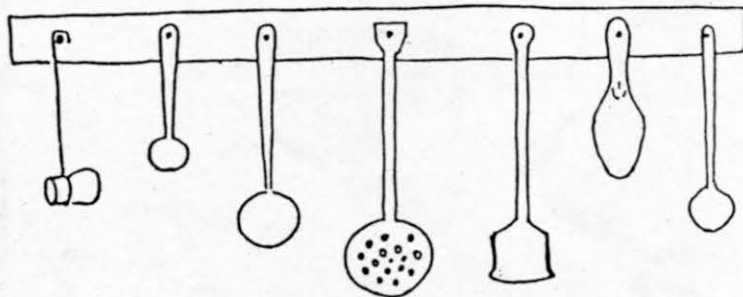


आम

लड़का

लड़की

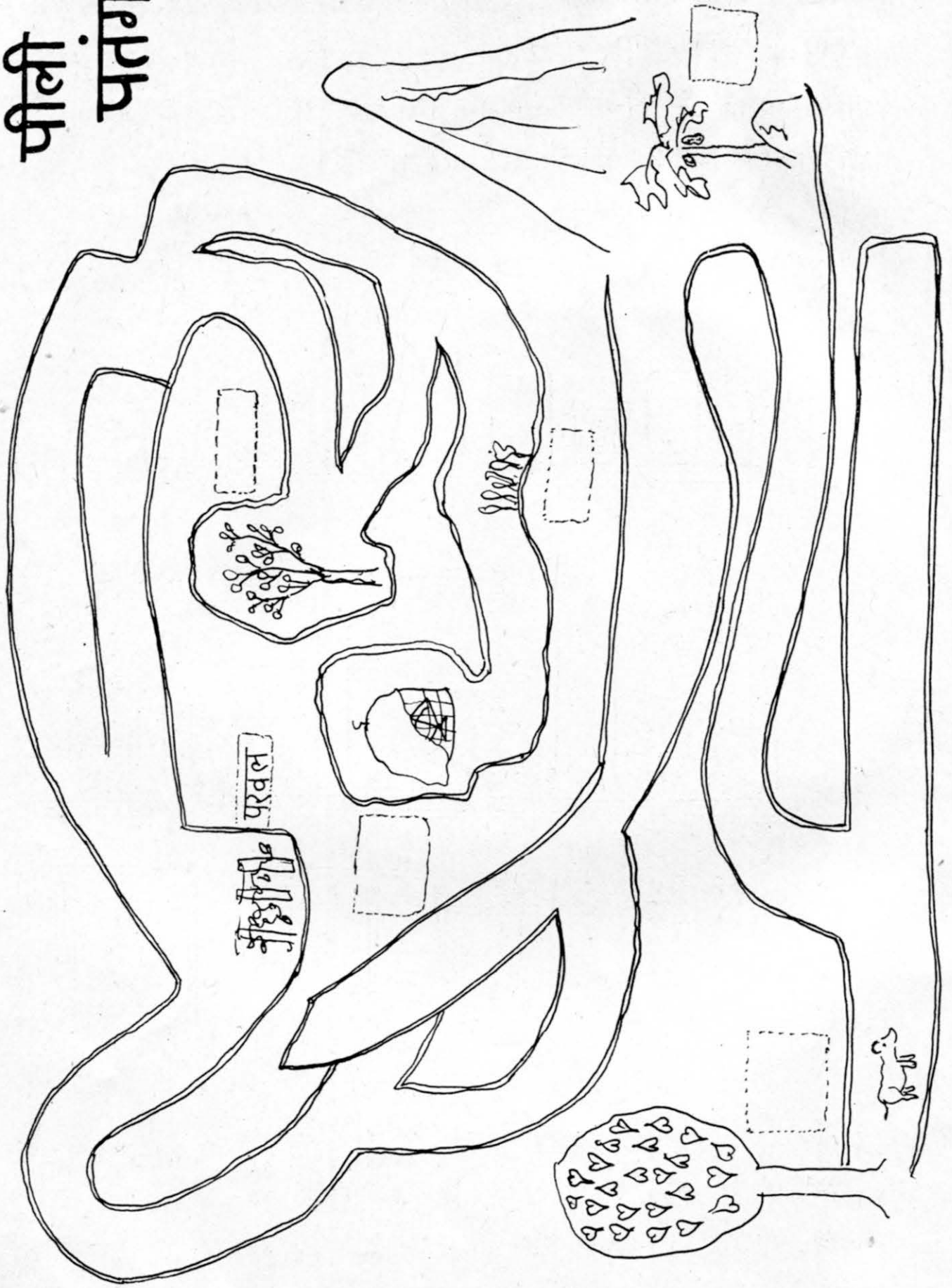
छिपकली और चूहा

✦ किस ताक में ज्यादा बोटलें हैं?
किस बोटल में सबसे ज्यादा चीजें हैं? बड़े चम्मच ज्यादा हैं कि
छोटे चम्मच ? गिन कर बताओ ।



- दीवार पर क्या-क्या चीजें लटकी हैं ? उनके नाम लिखो ।
- लम्बे पट्टिये पर ज्यादा चीजें हैं या छोटे पर ?
- लम्बे पट्टिये की चीजों के नाम लिखो । सबसे बड़ी चीज के नाम से शुरू कर के सबसे छोटी तक पट्टी पर लिखो

पीली पतंग



एक पीली पतंग और एक पिल्ले में बहुत दोस्ती थी। दोनों एक पीपल के पेड़ के नीचे रहते थे।

एक दिन अचानक आंधी आई। जोर से हवा चली और पतंग उड़कर गायब हो गई। पिल्ले और पीपल ने पतंग को बहुत ढूँढा। पर पतंग कहीं नहीं मिली।

अखिर पीपल ने पिल्ले से कहा - उधर नीले पहाड़ के पास एक बड़ा सा पत्थर है। वहाँ एक पपीते का पेड़ है। शायद वो बता सके हमारी पतंग कहाँ है।

पिल्ला गया उस पपीते के पास। पपीते ने उसको बात सुनकर कहा - एक-दो मोड़ के बाद मिलेगी एक परवल की बेल। उससे पता करो। तो पिल्ला गया परवल के पास। पर परवल ने कहा - आगे जाओ। मुझसे

कहानी में "प" वाले शब्दों पर

छोटा जो भी पौधा मिले, उससे पूछना।

पिल्ला आगे बढ़ा। कुछ दूर पर उसे पलाश का पेड़ मिला। लेकिन वो तो बहुत बड़ा था। इसलिये वो और आगे बढ़ा। थोड़ी दूर में उसे दिखा एक पालक का गुच्छा।

पिल्ला बहुत खुश हुआ। उसे लगा कि उसकी प्यारी पतंग मिलने वाली है। पालक ने कहा - उधर देखो, एक पिंजरा है। पर वह पिंजरा परदे से ढंका हुआ है। तुम उसे अपने पंजों से नहीं हटा सकते, पैरों से नहीं हटा सकते। सिर्फ पूँछ से ही हटा सकते हो।

पिल्ला आगे बढ़ा। उसे वो परदे से ढंका पिंजरा दिखा। उसने झट अपनी पूँछ से परदा हटा दिया। और पता है उसने क्या देखा - अपनी पीली पतंग!

गोला लगाओ।

बूझो मेरा नाम
ब्रनाओ मेरा चित्र

दो चक्के वाली हूँ।
घंटी मेरी बजती टिन टिन।

मेरी लाल चौंच हैं।
हरे पंख हैं।

दोस्तीं
के साथ
ये खेल खेलो।

लाल हूँ, गोल हूँ, मीठी हूँ।

सफेद हूँ, लंबी हूँ, लिखने के काम
आती हूँ।

चार पैर हैं, लकड़ी की
बनी हूँ, बैठने के काम आती हूँ।

पानी में रहता हूँ। कड़ी पीठ है।
धीरे-धीरे चलता हूँ।

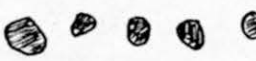

खेल

बाहर से कंकड़ और चूड़ी के टुकड़े ले आओ। दोनों को अलग-अलग ढेरी बना लो। ५ कंकड़ निकालो। इनमें कितने चूड़ी के टुकड़े जोड़ें कि कुल ८ हो जायें ?

३ चूड़ी के टुकड़े डालने पड़ेंगे। यह हुआ ८ का जोड़। क्या ऐसे और भी जोड़ बन सकते हैं ?

अच्छा अब २ कंकड़ लो। इसमें ६ चूड़ी के टुकड़े डालो। जोड़ कितना हुआ ?

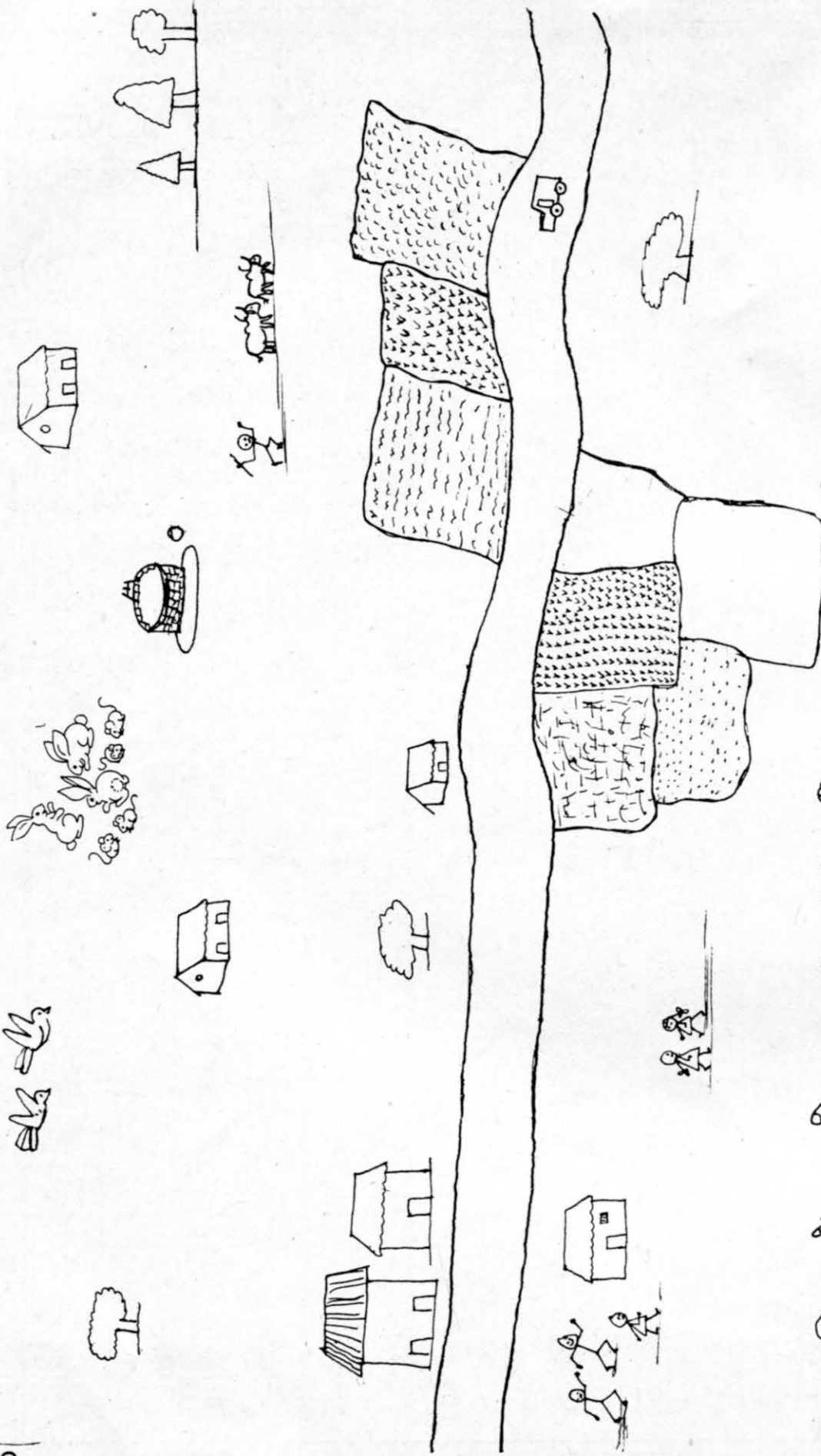
कितनी तरह से जोड़ कर ८ बना सकते हो ? तीन तरह से या चार तरह से या और भी ज्यादा ? अलग-अलग संख्या में कंकड़ लो और चूड़ी के टुकड़े जोड़ कर ८ बनाओ और पट्टी पर लिखो




कंकड़		चूड़ी के टुकड़े		चीजें
	+		=	८
५		३		


चूड़ी और कंकड़ से ९, ६, १२, १५ के लिये जोड़े बनाओ और अंकों में लिखो।


जैसे : $४ + ५ = ९$
 $३ + \dots = ९$

• और किन-किन चीजों से ये वाला खेल खेला जा सकता है ? (जैसे-पत्ती, चिस्ट, आदि) उन्हें लाकर इसी तरह के जोड़े बना कर खेलो।





ऊपर चित्र में बनाओ
 ४ घर बनाओ ऐसे 
 ३ चिड़िया ऐसे 
 सड़क पर ६ मोटर 

५ पेड़ ऐसे 

४ साइकिल ऐसे 

गिनो

कितने २ दरवाजे के घर  हैं।
 कितने ऐसे  पेड़ हैं? और कितने रेत हैं
 • चित्र में बाकी चीजों को भी गिनो और पट्टी पर लिखो

रास्ते

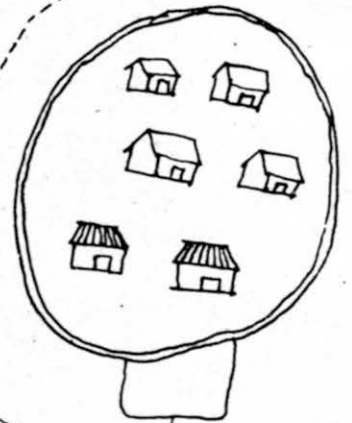
रास्ते पर चलकर सही चित्र के नीचे जोड़ लिखो।

$3 + 4 =$

$2 + 8 =$

$6 + 3 =$

$9 + 8 =$



• ऐसे और भी अभ्यास स्लेट पर करो। दोस्तों के साथ खेलो।

शिकार

एक रात को कल्लू मल्लाह की नाव में बिल्ली छिपी बैठी थी। एक उल्लू उड़ कर आया और नाव के किनारे बैठ गया।



बिल्ली उस पर झपटो।

उल्लू उड़ गया और

बिल्ली पानी में जा गिरी।

• गया - गई खेलो

उल्लू उड़ गया।

कौआ उड़ गया।

टिल्लू उड़ गया।


चिड़िया उड़ गई।

हाथी उड़


चूहा उड़

बिल्ली उड़








मछली उड़



रुप्या रवेल्



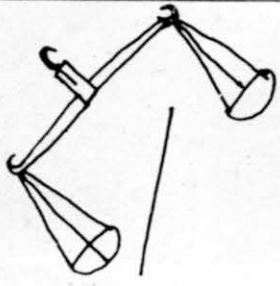
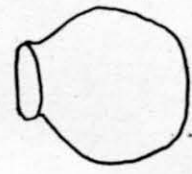
- क्या तुम ऊपर जैसी आकृतियां बना सकते हो? इन्हें रूपे घिस कर या कागज फाड़कर बनाओ। गीली मिट्टी से भी बना सकते हो।
- इनको जमाकर और नई आकृतियां बनाओ।

जैसे :       


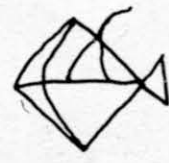
- बाहर से लकड़ी की काड़ियां या सीक बनाकर लाओ। इन सीकों को आकृतियों में जमाओ। सीकों से कई चीजें बनाओ।
- रेत, मिट्टी पर उंगली से ऐसी और भी आकृतियां बनाओ।
- तुमने जो चीजें बनाई उनके नाम पट्टी पर लिखो।

नाम लिखो

हर एक चित्र का नाम धाटकर चित्र के नीचे लिखो।
 [प] से शुरू होने वाले नामों में पीला रंग भरो। [म] से शुरू होने वालों
 में हरा रंग भरो।



सूअर
 पीता भूअज मटका
 तराजू मछली
 आम पतंग शिअ



धाटकर लिखो
 कौनसी चीज कहाँ

घर के अंदर

घर के बाहर

• पट्टी पर ऐसे और नाम लिखो जो छ. ग. ह. ख. से शुरू होते हैं।

जोड़ी और सही जोड़ी मिलाओ

$$9 + 2$$

$$8$$

$$2 + 2$$

$$7 + 9$$

$$6$$

$$6 + 3$$

$$2 + 3$$

$$5$$

$$2 + 9$$

$$3 + 9$$

$$7$$

$$8 + 9$$

$$5 + 2$$

$$9$$

$$6 + 9$$

$$2 + 8$$

$$5$$

$$3 + 3$$

$$6 + 9$$

$$3$$

$$8 + 8$$

और भी ऐसे जोड़े लिखो

$$8 + 9 = 17$$

$$2 + 3 = 5$$

● बाहर से कंकड़ लाओ। बीच वाले गोलों पर उतने ही कंकड़ रखकर ढेरी बनाओ जितना ऊपर अंक लिखा है।

● प्रत्येक ढेरी को कितनी तरह से दो हिस्सों में बांट सकते हो

सांप और बंदर

- चित्र देखकर सही वाक्य पर निशान लगाओ। सही वाक्य पट्टी पर उतारो।



बंदर ने लौटा उठाया।

बंदर ने गमला उठाया।



चूहे को गमले से ढक दिया।

सांप को गमले से ढक दिया।



बंदर गमले पर शान से बैठा।

बंदर गमले पर खड़ा है।



सांप ने बंदर को काटा।

बंदर ने सांप को काटा।



बंदर हंस रहा है।

बंदर की पूंछ सूज गई।

- पुस्तकालय की किताबों के चित्र देखो। चित्रों पर ऐसे ही स्क सही, एक गलत वाक्य बनाओ और बोलो।


पढ़ो, बनाओ और गिनो

छह चिड़ियाँ


६ 

बारह


पत्तियाँ

१२ 

चौदह तिकोण

१४ 

सात गेंद


७ 

आठ फूल


८ 

सोलह


चौकोर

१६ 

बीस पेड़

२० 

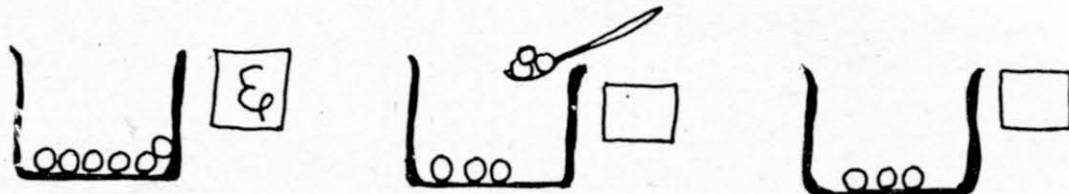
दस चूहे

१० 

- पट्टी पर गिनकर और भी चीजें बनाओ। (जैसे ८ गिलास, ६ हाथी)
- बाहर से कंकड़, चूड़ी के टुकड़े, चिरु या कोई और छोटी-छोटी चीजें लें आओ। अपनी बनाई चीजों पर रखकर गिनती की जाँच करो।


घटाओ

पहला सवाल मैंने तुम्हारे लिए कर दिया है। बाकी तुम करो। ऐसे और भी सवाल करो। कंकड़, बीज व अन्य चीजों से इन सवालों को करो। दोस्तों के लिए ऐसे सवाल बनाओ और खेलो।




६ लड्डू में से ३ लड्डू निकाले तो बचे ३

$$\begin{array}{r} 6 \\ - 3 \\ \hline 3 \end{array}$$



..... चिड़ियों में से चिड़ियाँ उड़ गईं तो बचीं



..... फूलों में से फूल तोड़ लिए तो बचे

$$\begin{array}{r} 8 \\ - 3 \\ \hline \end{array}$$

$$\begin{array}{r} 6 \\ - 2 \\ \hline \end{array}$$

$$\begin{array}{r} 6 \\ - 9 \\ \hline \end{array}$$



$$\begin{array}{r} 7 \\ - 2 \\ \hline \end{array}$$

$$\begin{array}{r} 6 \\ - 3 \\ \hline \end{array}$$

$$\begin{array}{r} 7 \\ - 2 \\ \hline \end{array}$$

छप्पर

रात को नत्थू का छप्पर
चूने लगा।
घुप्प अंधेरा था।



उसकी पत्नी ने चिमनी जलाई।
रुक सप्ताह पहले ही नत्थू ने
छप्पर पर फूस डाली थी।

बारिश के कारण फूस
खिसक गई थी।
नत्थू ने छप्पर पर चढ़कर
उसे ठीक कर दिया।
छप्पर ने चूना बंद कर दिया।



जलाई
दिन
अंधेरा
चढ़ा

बुझाई
रात
रोशनी
उतरा

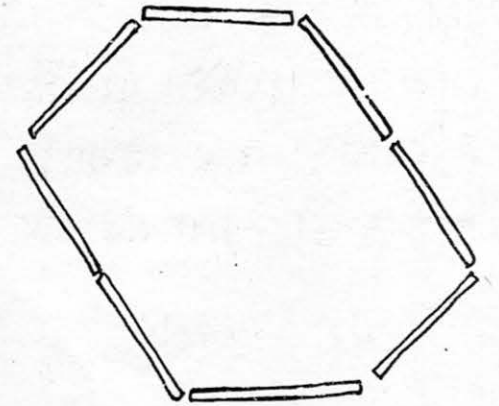
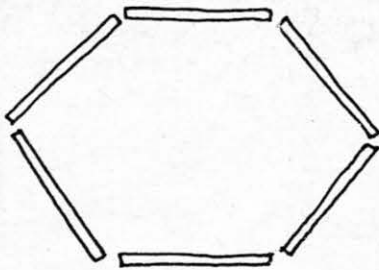
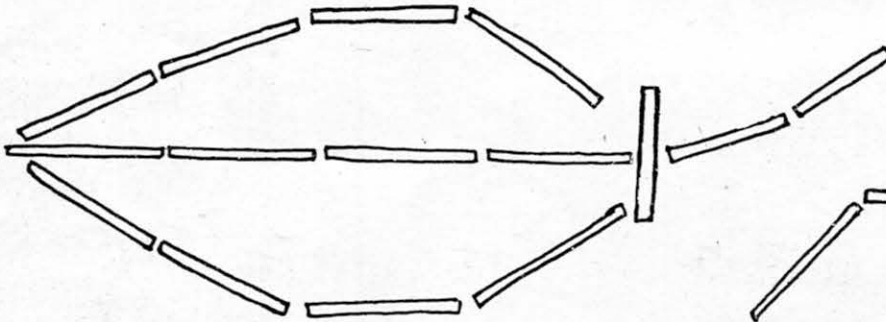

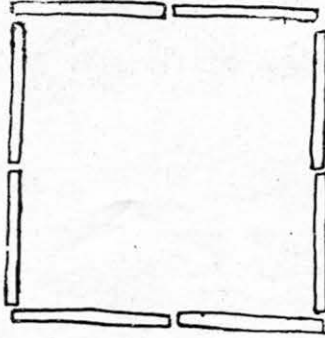
छप्पर
कल्लू
सिक्का
मिट्टी

टप्पर
मल्लू
चक्का
पट्टी

चप्पल
लल्लू
मक्का
खट्टी

आकृति बनाओ खेल

कुछ सीक इकट्ठी करो। इन्हें बराबर लम्बाई के टुकड़ों में तोड़ लो। इनसे ऐसी आकृतियाँ बनाओ। फिर उन्हें आधा करो।



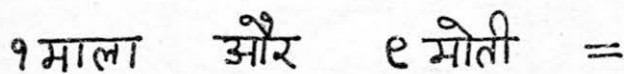
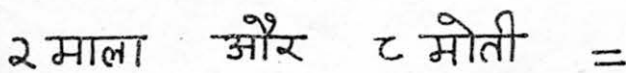




- तीलियाँ जमाकर ऐसी और भी आकृतियाँ बनाओ।
- इन सब की आधी आकृतियाँ बनाने को कोशिश करो।
- अपने दोस्तों को ऐसी नई आकृतियाँ बनाकर आधा करने को दो।

माला मोती

ढहाई इकाई


धागे में मोती पिरोकर तुम भी ऐसी माला बनाकर खेल सकते हो। मोती न हों तो बटन या कुछ और ले सकते हो।

• मोती



- 1 माला 1 मोती = 11 मोती
- 1 माला 2 मोती = 12
- 1 माला 3 मोती = 13
- 1 माला 4 मोती =
- 1 माला 5 मोती = 15
- 1 माला 6 मोती =
- 1 माला 7 मोती = 17
- 1 माला 8 मोती =
- 2 माला = 21
- 2 माला 1 मोती =

ऐसे और भी अभ्यास पढ़ी पर और मोतियों व माला के साथ करो।



रसोई में भगदड़

दबे पाँव से बिल्ली आई
लगी चाटने दूध मलाई ।
गरम लगा तो प्लेट गिराई
पटके बर्तन धूम मचाई ।
कुत्ते ने जो आहट पाई
दौड़ के झटपट पहुँचा भाई ।
'भौं भौं' कर आवाज लगाई
मुन्नी झट से दौड़ी आई ।


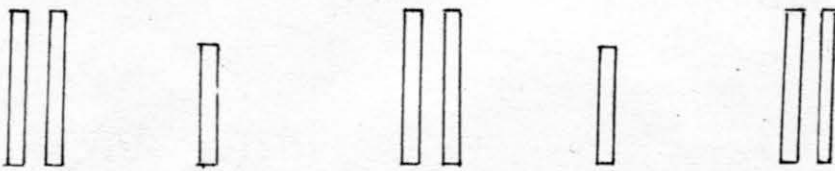



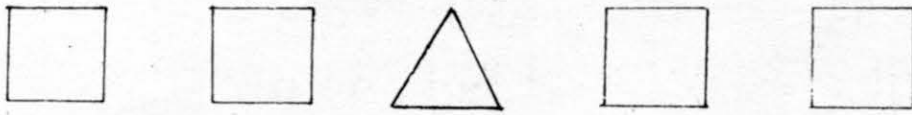

अरे ये कैसी हो गई गड़बड़
सारे बर्तन करते भड़-भड़ ।
गंजी करती
चमचा करता
थाली करती
मटका करता
.....

- क्या तुम आंख बंद कर के पहचान सकते हो कि कौन सा बर्तन गिरा ? कौन सी चीज़ गिरी? एक दूसरे के साथ खेलो ।
- बिल्ली कैसे आई ?
- कुत्ते ने कैसे आवाज लगाई ?
- मुन्नी ने क्या देखा ?
मुन्नी ने क्या किया होगा?
- इस चित्र में कौन से बर्तन हैं?
चित्र में सभी चीज़ों के नाम लिखो ।
- तुम भी कुछ बर्तन चित्र में बनाओ ।

गिरा	गिराई
पिटा
मचा
लगा

- ई से खतम होने वाले शब्दों पर गोला लगाओ ।

- अगला क्या होगा •
- हर लाइन में बनाओ •



- रूपों जमाकर अलग-अलग तरीके से और भी बनाओ ।
- पट्टी पर और भी आकृतियाँ बनाओ। अगला क्या होगा दोस्तों से बूझने को कहो ।

पहेलियां

- नीचे के शब्दों में जवाब ढूँढो।
- जवाब ढूँढकर सबको समझाओ।
- बना सकी तो चित्र भी बनाओ।

लाल लाल तवा, सीने से मढ़ा
पूरब से आया, पश्चिम की गया।

बादल लेकर उड़ती हूँ
न ही किसी को दिखती हूँ।
हर सांस में सबके आती
फिर भी किसी को नजर न आती।

आसमान से टपका हूँ
ज्यादा देर न टिकता हूँ।
जल्दी कर के मुझको पकड़ो
नहीं तो फिर मैं गलता हूँ।

बीन बजाता आता हूँ,
खून पी उड़ जाता हूँ।

खट्टे खट्टे रसवाला हूँ
चीज़ इक अनमोल हूँ।
पीला पीला छिलका मेरा
ऊपर से मैं गोल हूँ।

हाथी, शेर, हवा, चींटी, मकड़ी, सूरज, टमाटर, प्याज, पानी, आलू, मछली, ओला, मकरवी, चिड़िया, चूहा, मच्छर, आम, नीबू, पतंग।

जोड़ो और घटाओ

$3 + 4 =$



$6 - 4 =$


$4 + 3 =$



$6 - 3 =$



$2 + 4 =$




$6 - 2 =$

$4 + 2 =$



$6 - 4 =$

$5 + 4 =$




$9 - 4 =$

$4 + 5 =$

$9 - 5 =$

$5 + 3 =$



$8 - 5 =$

$3 + 5 =$

$8 - 3 =$

- अंक कार्ड के साथ जोड़ने घटाने के और भी अभ्यास करो।
- कंकड़ और बिन्दी कार्ड के साथ भी ऐसे अभ्यास करो।
- बीज, कंकड़ से एक दूसरे के लिए जोड़ने घटाने के अभ्यास बनाओ और करो।

कविता पढ़कर चिड़काबूड़ा का चित्र बनाओ

लंबी दाढ़ी आधा बूढ़ा
ये हैं एक चिड़काबूड़ा।
कभी नहीं नहाता है,
मीठी मौली खाता है।

चाहे जितना रंग लगाओ
चिड़काबूड़ा का चित्र बनाओ।

-
- ऐसी और कौन सी कविताएँ तुम्हें आती हैं? उन्हें गाओ, उन पर चित्र बनाओ।

पड़ा पढ़ा दाढ़ी नहाता

गाड़ा गाढ़ा गाड़ी खाता

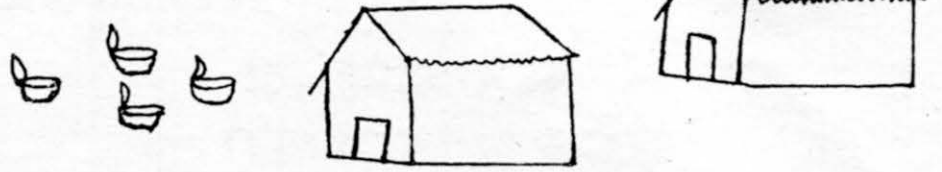
बाड़ा बाढ़ साड़ी जाता

- और भी ऐसे शब्दों को ढूँढो।

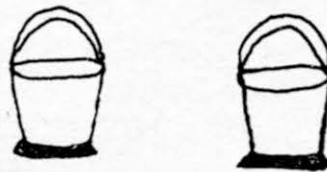
• 'ली' में खतम होने वाले शब्द ढूँढो

बांटो इनमें आधा आधा
 कि किसी को कम न किसी को ज्यादा

दोनों घरों में बराबर-बराबर दीये रखो.....



दोनों बाल्टियों में बराबर बांटो.....



मीना और शशि को बराबर लड्डू दो.....




शशि






मीना

बंदर और हाथी को बराबर - बराबर दो...



दोनों तितलियों को बराबर - बराबर दो.....



हर दीये के लिए एक कंकड़ लो। कंकड़ को दोनों घरों में बराबर बांटो।
 ऐसा बाकि सवालों के साथ भी करो। ऐसे और भी सवाल बनाओ - करो।

संख्या चार्ट

1		21	31	41
2	12	22	32	
				43
			34	
5				
				46
6				
	17		27	
		28		
10	20			40

जैसा मैं बताऊँ वैसा ही करो

- गिनो → 1 से 20 तक कितने घर खाली हैं?
- 20 से 40 तक कितने खाली हैं?
- 1 से 40 तक कितने घरों में संख्या लिखी हुई है?
- खाली घर में संख्या लिखो।
- 15 के बाद क्या आता है?
- 15 के कितने घर बाद 17 है?
- 17 से 13 तक पहुंचने में क्रम से कौन सी संख्याएं मिलीं?
- 23 से 27 तक पहुंचने में कितने घर आगे बढ़ना होगा?
- 17 से 11 तक लौटने में कितने घर पार करने होंगे?
- 25 से 3 बड़ी संख्या कौन सी है?

इस तरह के और भी अभ्यास करो। दोस्तों के साथ जल्दी पता करने का खेल, टीमों में बंट कर खेलो।

- 10 के बाद हर दसवें घर में हरा रंग भरो? किन घरों में रंग भरा?
- 2 के बाद हर दूसरे घर में पीला रंग भरो? (हरे रंग के घर छोड़ दो)
- 10 के बाद हर पांचवें घर में लाल रंग भरो? (हरे रंग के घर छोड़ दो)
- 20 तक कौन से घर पीले हुए? 40 तक कौन से घर लाल हुए।

हाय रे मिर्च

हल्कू हाथी को हरी मिर्च बहुत अच्छी लगती थी। एक बार उसे हरी मिर्च का बहुत बड़ा झाड़ दिखा। हल्कू शट से पूरा झाड़ चबा गया।


पर ये क्या? हरी मिर्च तो, बहुत ही तीखी निकली। हल्कू चिल्लाया - हाय रे, बचाओ। सीं सीं सीं, हाय।

हल्कू भाग कर नहर पर पहुंचा। वहां उसने ढेर सा पानी पिया। पर मिर्च जरा भी कम नहीं हुई।

अचानक हल्कू को हलवाई की याद आई। उसने सोचा अगर हलवा मिल जाये तो मिर्च लगना बंद हो जायेगा।

वह दौड़ते-दौड़ते हलवाई की दुकान पर पहुंचा। बोला- हलवाई हलवाई, मुझे थोड़ा सा हलवा दे दो। हलवाई ने कहा - दे तो दूंगा, पर पहले तुम मुझे थोड़ी सी हल्दी ला दो।

हल्कू हांफते-हांफते हशमत की दुकान पर पहुंचा। बोला - हशमत भाई, हशमत भाई, मुझे थोड़ी सी हल्दी दे दो। हल्दी मैं हलवाई को दूंगा,

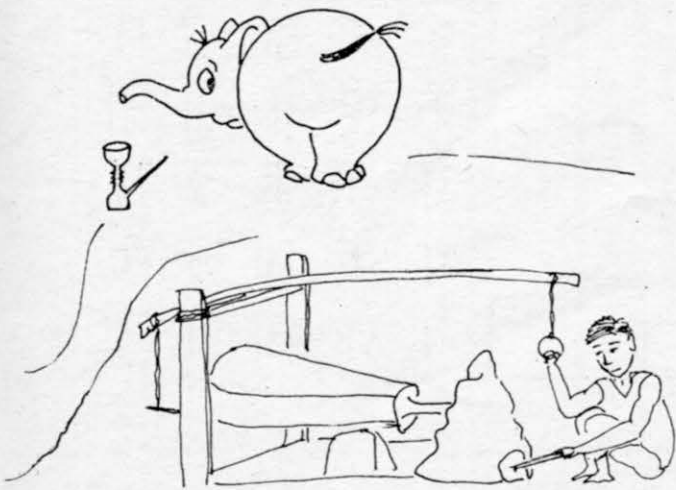


हलवाई मुझे हलवा देगा।

हरामत ने कहा - दे तो दूंगा, पर पहले तुम मुझे एक हंसिया ला दो।

बेचारा हल्कू फिर लोहार के पास पहुंचा। बोला - लोहार भाई, लोहार भाई, मुझे एक हंसिया दे दो। हंसिया मैं हरामत को दूंगा। हरामत मुझे हल्दी देगा। हल्दी मैं हलवाई को दूंगा। हलवाई मुझे हलवा देगा।

लोहार ने कहा - दे तो दूंगा, पर पहले तुम मेरा हुक्का भर दो।



हल्कू ने लोहार का हुक्का भर दिया। लोहार ने उसे हंसिया दे दिया। हंसिया लेकर वह हरामत के पास पहुंचा। बोला - हरामत भाई, हरामत भाई, ये लो हंसिया। अब मुझे थोड़ी सी हल्दी दे दो। हरामत ने उसे हल्दी दे दी।

हल्दी ले कर वह हलवाई की दुकान पर पहुंचा। हलवाई ने हल्दी ले ली, और हल्कू को थोड़ा हलवा दे दिया।

हल्कू ने झट से हलवा खा लिया। हलवा खाते ही उसे मिर्च लगना बंद हो गई। कुछ समय के लिये तो हल्कू को बहुत अच्छा लगा। पर थोड़ी देर के बाद उसे फिर से हरी मिर्च की याद आने लगी।

• 'ह' वाले शब्दों पर गोला लगाओ।


सुरता का बस्ता



सुरता के बस्ते में
क्या-क्या है ?

इन्हें काटो - ब, क, रा, री, बा

ब क रा बा रा
री ब क री क
क री ब क रा
बे क रा र बा
ब रा क क ब



क्या बचा ?
बचे हुए को जोड़कर
शब्द बनाओ।





इन्हें काटो क, ल, च, का, ह

क ल च का ह
क ल ह क च
ल चू हा का ह
क ह का च ल
ल का च ह क



इन्हें काटो - का, ली, ल, ह रा

का ली ल ह रा
रा ह का ल ली
कै ली ला ह रा
ली ल ह रा का
का का ली ह ली



इन्हें काटो - प, ना, पा, के, ने

प ना पा ना प
कै प ने ना पा
पै ना कै न प
प कै पा प कै
ने प ना ने पा

● अक्षर कार्ड जमाकर और नाम बनाओ।

● पट्टी पर मन से रेशे और झुंड बनाओ। नाम ढूँढ़ना खेलो।

आकृतियां

नीचे वाले चित्र को अपर वाले चित्र जैसा भरो।

कितने हैं ?

कितने हैं ?

कुल _____

कितने हैं ?

कितने हैं ?

कुल _____

- में लाल रंग भरो।
- में हरा रंग भरो।
- में पीला रंग भरो।

- कुल कितने रंगे ?
- कुल कितने रंगे ?
- कुल कितने रंगे ?

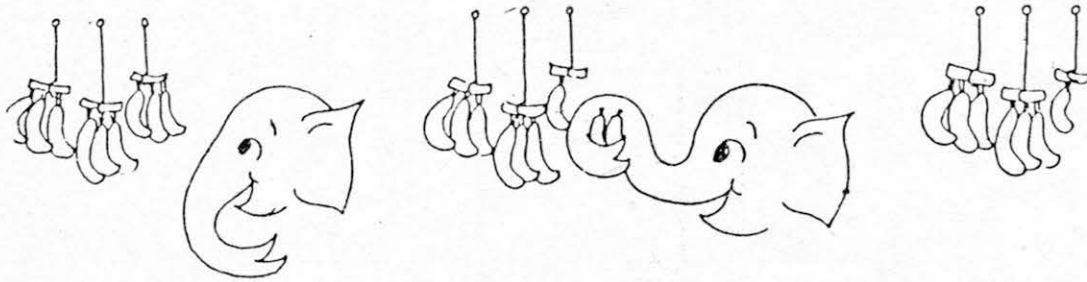

- बाहर से कंकड़, चूड़ी के टुकड़े, चिरं या बीज आदि लाओ।
- पर कंकड़ रखो, पर काड़ी, पर चूड़ी के टुकड़े और
- पर कोई बीज। ऐसे ही अलग-अलग तरह की और चीजें जमाओ।

चीजें

लड्डू, लट्टू, कच्ची ईट,
ताला, चाबी, पक्की ईट,
कील, कागज और करेला,
कच्चा मटका, गुड़ का भेला।
शीशी, पन्नी, चाय की छन्नी,
पंजी, दस्सी और चवन्नी।
कैंची, फावड़ा, गाय का गिरमा,
टोपी, जूता, आँख का सुरमा।

- जिन चीजों के चित्र बना सकते हो उन्हें बनाओ। उनपर चीजों के नाम भी लिखो।
- इनमें से कौनसी चीजें कुम्हार बनाता है ?
- कौनसी चीजें रसीई में लगती हैं ?

घटना



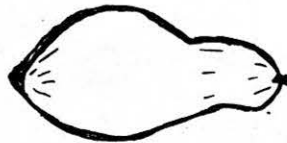



- इन चित्रों से कहानी बनाओ ।
- ऐसे ही चित्रों से हमने घटाने के सवाल किए थे। अब आप बने चित्रों से ऐसे और सवाल बनाओ ।

दोगुना करो आधा करो

दोगुना

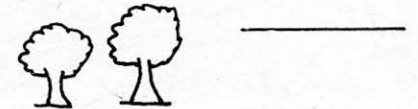
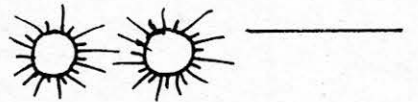
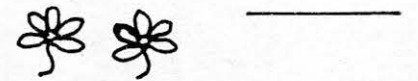

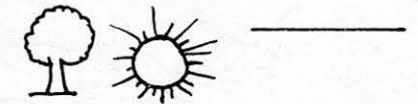
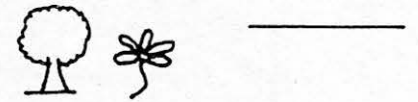


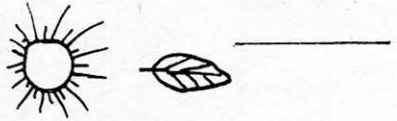



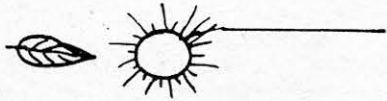




आधा






आस पास से फूल, पत्तियाँ, पुराने कागज इकट्ठे करो।
इनको आधा-आधा करने की कोशिश करो।

आवाज का खेल



• ऐसे और भी जोड़े पट्टी पर बनाओ ।



• अब चित्र भी खुद ही चुनो और पट्टी पर जोड़े बनाओ ।

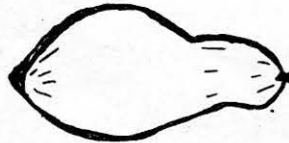




दोगुना करो आधा करो

दोगुना


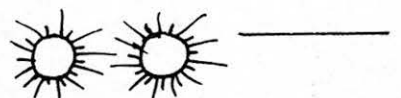
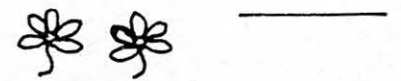

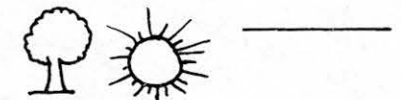
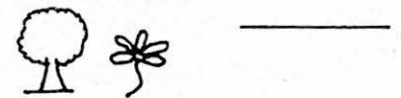






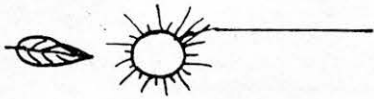





आधा







आस पास से फूल, पत्तियाँ, पुराने कागज इकट्ठे करो।
इनको आधा-आधा करने की कोशिश करो।

आवाज का खेल



• ऐसे और भी जोड़े पट्टी पर बनाओ ।



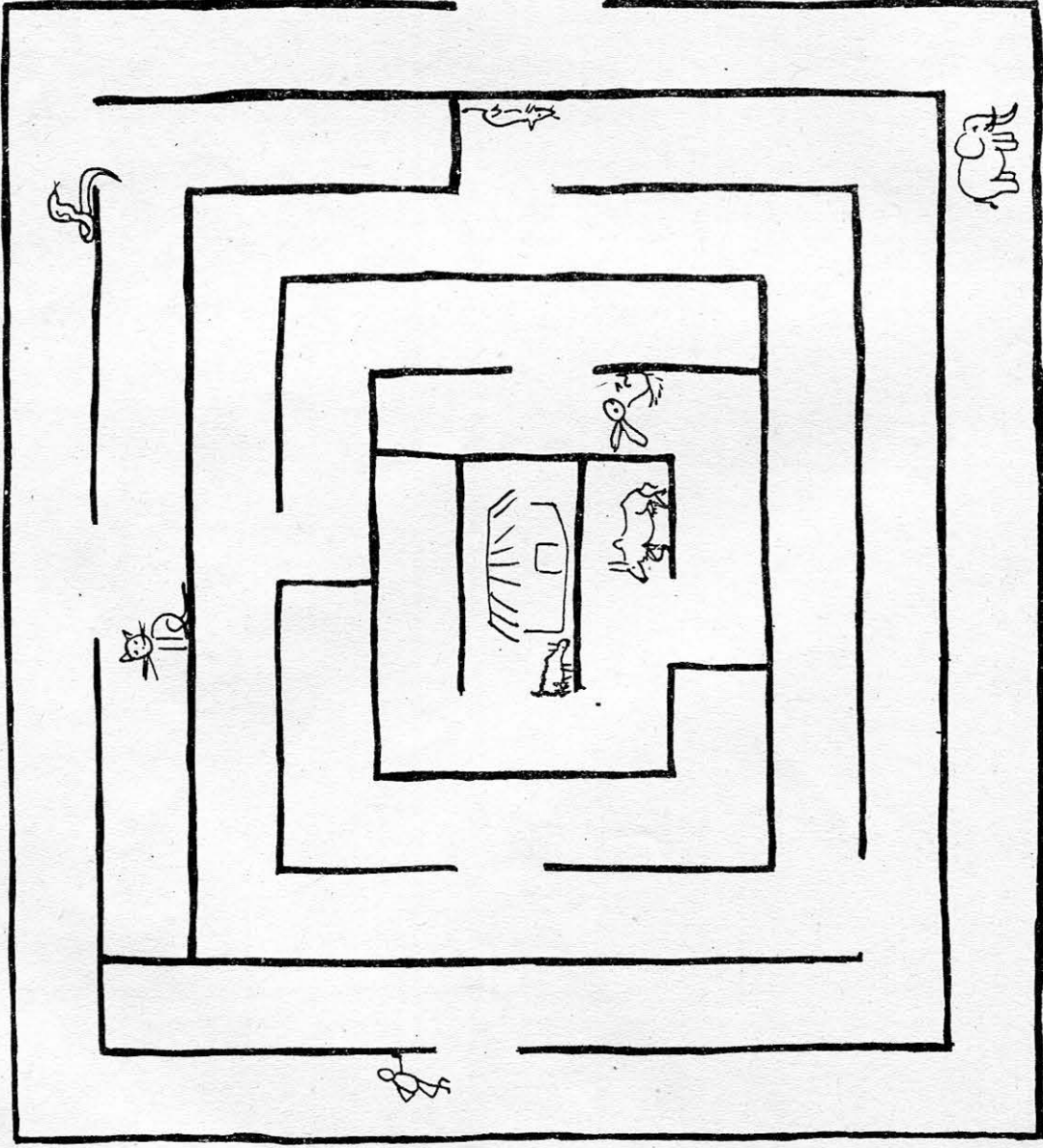
• अब चित्र भी खुद ही चुनो और पट्टी पर जोड़े बनाओ ।



तिजिया का घर

जरा तिजिया को उसके घर तक तो पहुंचाओ। ये भी बताओ कि हरेक से तिजिया को क्या बातचीत हुई।

रास्ते में क्या-क्या मिला ?
जाते में



आते में

- क्या तुम तीलियां रखकर ऐसी भूल भुलैया बना सकते हो।
- बिल्ली को गाय तक पहुंचाओ। और सांप को चूहे तक। रास्ते में सांप को खगौरा मिला - सही या गलत? क्या बिल्ली को रास्ते में हाथी मिलेगा।

खेल

बाहर से कुछ काड़ियां, कुछ कंकड़ ले आओ। काड़ियों को बराबर- बराबर तोड़ लो। गिन कर दस काड़ियां निकालो। उन्हें एक धागे से बांध लो। १०-१० काड़ियों के ४-५ बंडल बनाओ।

अब बंडल और काड़ी का खेल खेलो। खेल दो टीमों के बीच होगा। हर टीम में अधिक से अधिक ३ बच्चे हो सकते हैं। हर टीम ४ बंडल और ९ सींक ले ले। साथ ही हर टीम अपने पास १०-१० कंकड़ भी रख ले।

कोई भी एक टीम शुरू करे। जो भी संख्या वह टीम मांगे (बोले) उतनी काड़ियां दूसरी टीम को दिखानी हैं। बंडल नहीं खोल सकते। अगर कोई टीम काड़ियां नहीं दिखा सके तो मांगने वाली टीम को वही संख्या दिखानी होगी। अगर मांगने वाली टीम ने काड़ियों से वही संख्या दिखा दी तो वह दूसरी टीम से एक कंकड़ ले लेगी।

कंकड़ों के लेन देन का हिसाब ऐसे रखो।

ऐसी तालिका से खेल में मदद मिलेगी।

टीम १	टीम २
९ कंकड़	१० कंकड़
.....
.....
.....

बंडल	= काड़ियां
१ बंडल	१० काड़ियां
२..
३..
४

काड़ी काड़ियां
गाड़ी गाड़ियां




संख्या संख्याएं
शाखा शखाएं

टीम को दो
लता को दो

अब कुछ सवाल मेरे लिये भी कर दो। मुझे चाहिये

१३ काड़ियां। कितने बंडल दोगे और कितनी काड़ियां ?

१३ काड़ियां १ बंडल से अधिक हैं और २ बंडल से कम। कितनी अधिक हैं ? १३ काड़ियों के लिये १ बंडल और ३ काड़ी देनी होगी।



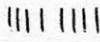
२५ काड़ियां    २ बंडल ५ काड़ियां

१८ काड़ियां बंडल काड़ियां

३० काड़ियां

११ काड़ियां

• ऐसे और भी सवाल करो। एक दूसरे के लिये बनाओ।

२ बंडल ८ काड़ियां    २ ८ काड़ियां

१ बंडल ६ काड़ियां काड़ियां

२ बंडल ३ काड़ियां

१ बंडल ९ काड़ियां

२ बंडल २ काड़ियां

इ बाबा शेर

इमरत और नत्थू
डोल से टिककर बात
कर रहे थे। शेर ने उनको
देख लिया।



शेर उनपर झपटने
के लिये डोल पर
चढ़ा। लेकिन डोल
खिस्क कर टूटा
होने लगा।
नत्थू बोला- अहा
देख लिया।
तभी शेर डोल के
अंदर गिर गया।



नत्थू और इमरत ने डील पूरा
उलट दिया। शेर अंदर बंद
हो गया। पर उसकी पूंछ
एक छेद से बाहर निकल आई।
इमरत ने झुककर उसे पकड़
लिया।



और बांध दी पूंछ में गांठ। हा! हा! हा!

शब्द खेल

रेल, बंदर, फल, कितने, पानी, कलम, गोल, लंबा, बोल, फूल, जाता, आता, भर, चार, एक, लात, पकड़ी, पेड़, हाथी, पतंग, लड़की, ऊपर, घर।

- ऊपर वाले शब्द नीचे ढूँढो। ढूँढ कर उन पर गीला लगाओ।

कि	रे	ल	चू	हा	थी	हा	फ	ल	ना
त	चु	प	तं	ग	ल	थ	रा	त	च
ने	न	पा	ऊ	प	र	नी	चे	प	ला
पै	मु	नी	ला	ढ	भ	र	ना	क	ऊं
इ	नी	बो	ल	बं	द	र	ल	डो	गा
बं	द	गो	ल	द	ल	ड	की	आ	या
घ	र	चा	र	लं	बा	जा	ता	ता	रा
र	वा	बं	ए	क	बा	द	ल	पै	इ
बा	जा	द	क	प	पा	नी	ला	प	ता
म	द	ली	र	ज	ला	लो	त	रा	जू

- इन शब्दों को पट्टी पर लिखो।
- और कौन-कौनसे शब्द बना सकते हो, पट्टी पर लिखो।
- अक्षर कार्ड जमाकर ऐसे और शब्द बनाओ।

अपने बारे में बताऊँ ?

१. मेरी माँ का नाम है ।
२. मेरे पिता का नाम है ।
३. हम लोग में रहते हैं ।
४. हमारे जिले का नाम है ।
५. हमारे घर में कुल लोग हैं ।
६. मैं साल का हूँ ।
७. मेरे घर में कुल दरवाजे हैं ।
८. मेरे मामा में रहते हैं ।
९. मेरे घर के पास रहता है ।

- अपने घर और घर के लोगों का चित्र बनाओ ।
पट्टी पर और सामने वाले पन्ने पर भी बनाओ ।

जोड़कर लिखो

काली गोटी ●
 खाली गोटी ○

● ●	○ ○ ○○	$2 + 4 = 6$
●	○ ○ ○○○○	$1 + 6 = \dots$
● ● ● ● ● ●	○ ○ ○	$\dots + \dots = \dots$
● ● ●	○ ○ ○	$\dots + \dots = \dots$
● ● ● ●	○ ○ ○○○	$\dots + \dots = \dots$
● ● ●	○ ○ ○○○	$\dots + \dots = \dots$

जोड़ी और संख्याओं के बराबर काली और खाली गोटी बनाओ।


$4 + 2 = 6$	● ● ● ●	○ ○ ○
$3 + 2 =$	● ● ●	○ ○
$6 + 2 =$		
$5 + 3 =$		
$4 + 4 =$		

खाली स्थान भरो:-

● ● ● ●	+	$4 + 5 = 9$
● ● ● ● ● ●	+	$6 + \dots = 9$
.....	+	○ ○	$\dots + 2 = 9$
.....	+	○	$\dots + 9 = 9$

आई एक खबर

अभी खबर दिल्ली से आई,
मक्खी रानी उसको लाई ।
टिंडे ने हाथी को मारा
हाथी क्या करता बेचारा।
घुस बैठा मटके के अंदर,
मटके में थे ठाई बंदर ।
उन्हें देखकर हाथी रोया,
रोते रोते ही वह सोया।



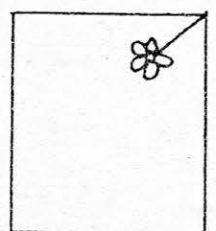
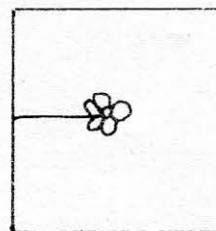


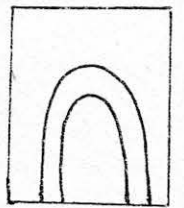



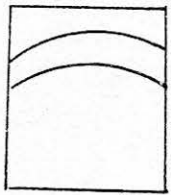
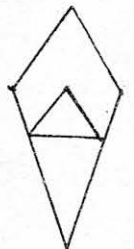
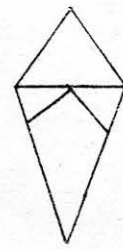
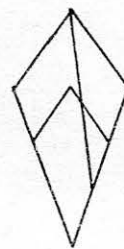
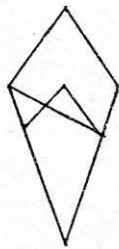
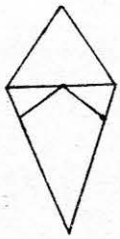
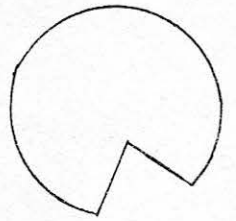
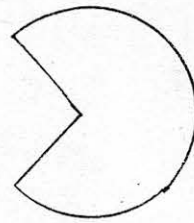
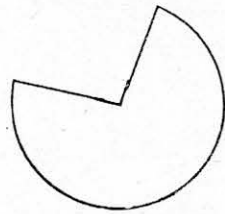

रुकी न पर आंसू की धारा,
मटका बना समंदर खारा ।
लगे डूबने हाथी बंदर,
फंस गये थे उसके अंदर ।
उनकी सुनकर आया मच्छर,
लात जमाई उसने कसकर ।
मटका फूटा, बहा समंदर
निकल पड़े सब हाथी-बंदर ।

- ऐसे और बनाओ -
धारा
चारा
खारा
मारा

- बोलकर वाक्य पूरे करो -
- टिंडे ने
- मटके में
- मटके के
- दिल्ली से

जोड़ी ढूँढो

हर लाइन में पहले चित्र जैसा केवल एक ही चित्र है। उसे पहचान कर उसमें पीला रंग भरें।




दहाई इकाई

एक गुच्छा दस अंगूर



एक अंगूर



दो गुच्छे अंगूर

३५ अंगूर = ३ गुच्छे और ५ अंगूर

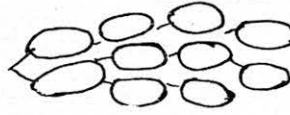
१८ अंगूर = गुच्छा और अंगूर

२५ अंगूर

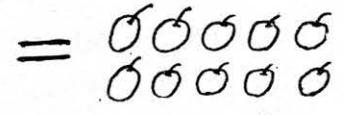
१४ अंगूर

३६ अंगूर

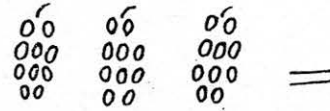
एक दहाई दस इकाई



एक गुच्छा



दस अंगूर



..... अंगूर

१ गुच्छा	१० अंगूर
२ गुच्छे अंगूर
३ गुच्छे अंगूर
४ गुच्छे अंगूर
५ गुच्छे अंगूर
६ गुच्छे अंगूर
७ गुच्छे अंगूर
८ गुच्छे अंगूर

- ऐसे और भी अभ्यास करो, पट्टी पर। अंगूर की जगह कंकड़ लो।
गुच्छे की जगह १० कंकड़ की ढेरी बनाओ। दोनों से ऐसे अभ्यास करो।

तालिका भरौ

चीतल, उड़ी, बीतल, खाता, आती, लता
बजती, जाता, राजू, था, रानू, चूहा, नीना
शेर, चलती, है, थी, जूता, सात, खाती,
मकड़ी, खरगोश, दिखती, करेला, धलनी, गाजर।

- अपर वाले शब्द नीचे ढूंढो। गीला लगाओ।
- इन शब्दों की छोट कर तालिका में लिखो।

ची उ स बी त ल क्ष रवा ता श
त आ म रा जा ता य ना ला ख
ल री छ नू प था जू है ब र
सु त ली थ क प ता न सा गी
प शै र ल रे उ ला गा त श
चू 'ह स च ला डी प ज ग य
हा ल आ पा से खा ती र च प
थ थी ती र छ घ रा जू ल ब
नी ना पा सा ल र ब हो ती ज
म क डी ग नी दि ख ती स ती

- गाय, हाथी, गाता, नहाता, शब्दों से वाक्य बनाओ।


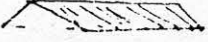
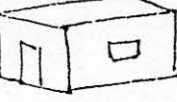
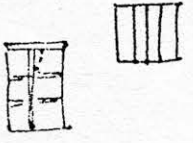
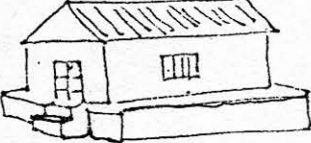









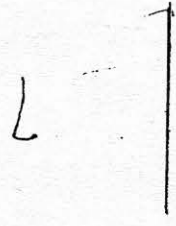



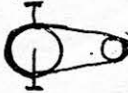


जानवर	चीजें	नाम
चीतल	बीतल	राजू

मेरे शब्द -

- बकरी खा रही है।
- शेर खा रहा है।
- चिड़िया उड़ती है।
- मछली तैरती है।
- रानू गाजर उठाती है।

हिस्सों

* हर लाइन में बने हिस्सों की जोड़ कर पूरा चित्र बनाओ और नाम लिखो।


चींटा मोची

एक था चींटा । उसने दो जूते बनाये और उन्हें बेचने निकला । उसे एक बंदर दिखा । चींटे ने आवाज दी - बंदर मामा , बंदर मामा , जरा रुको तो सही । वह दौड़कर बंदर के पास पहुंचा और बोला - बंदर मामा , बंदर मामा , मेरे जूते ले लो ।



बंदर ने जूते देखे , फिर चींटे की ओर देखा । उसे ऊपर से नीचे तक घूरा , और बोला - ये तो बहुत छोटे हैं । इन्हें खरगोश को दे दो ।

चींटा दौड़ा-दौड़ा खरगोश के घर गया । खरगोश ने कहा - ले लेता , पर ये तो दो ही हैं । मेरे तो चार पैर हैं ।



चींटा घर लौट आया । उसने रात भर में दो जूते और बनाये । दूसरे दिन वह चार जूते लेकर खरगोश के घर गया । खरगोश



ने बहुत कोशिश की , लेकिन जूते उसके पाव में घुसे ही नहीं । वे बहुत ही छोटे थे । खरगोश बोला - ये तो बहुत ही छोटे हैं । ये तो शायद चींटी ही ले सकें ।

चींटा गया चींटी के पास । बोला - चींटी रानी , चींटी रानी , मैंने तुम्हारे लिये

जूते बनाये हैं। मेरे जूते ले लो।

चींटी बोली - मेरे तो छुह पैर हैं।
और तुमने बनाये हैं चार जूते।

रात भर मैं चींटे ने दो जूते और बनाये।
अगले दिन चींटा छुह जूते लेकर चींटी के
घर गया। चींटी ने जूते पहनकर देखे और
बोली - ये जूते तो बहुत नरम हैं। मैं इन्हें
पहनकर मिट्टी में चलूंगी तो ये फट
जायेंगे। ये तो मकड़ी के लिये अच्छे रहेंगे।



बेचारा चींटा झुके कंधों और घिसटते
पैरों पर पहुंचा मकड़ी के घर। पर वी घर
के दरवाजे पे हो रुक गया - अंदर जाता तो
जाल में फंस जाता। मकड़ी बाहर आई तो
चींटे को देखकर बोली - क्या बात है ?
तुम बहुत परेशान दिख रहे हो।

चींटे ने कहा - सच, मैं बहुत
परेशान हो गया हूँ। कोई भी मेरे जूते
नहीं लेता। कोई कुछ कहता है तो कोई कुछ।

मकड़ी को चींटे पर दया आ गई।
बोली - मैं तुम्हें जूते खरीदने वाला
ऐसा आहक बताती हूँ जो रोज



दो जूते ले लेगा।

वो तुम्हारे सारे जूते ले लेगी।
उसके खूब सारे पैर होते हैं।

चींटा बहुत खुश हुआ।
बोला - कौन, ऐसा कौन होगा?
जल्दी बताओ ऐसा कौन होगा?

बस, फिर क्या था।
चींटा रोज दो-दो जूते
बनाता और गिंजाई को
दे आता।

मकड़ी बोली - गिंजाई!

• कहानी को अपने शब्दों में एक दूसरे को सुनाओ।

• तालिका भरो

नाम	पैर
चिड़िया	२
खरगोश	
चींटी	
मकड़ी	

चींटा किस-किस के पास गया?

• किस क्रम में? इनमें से चुनो।

- चिड़िया, चींटी, खरगोश, बंदर
- मकड़ी, खरगोश, चींटी, बंदर
- बंदर, खरगोश, चींटी, मकड़ी

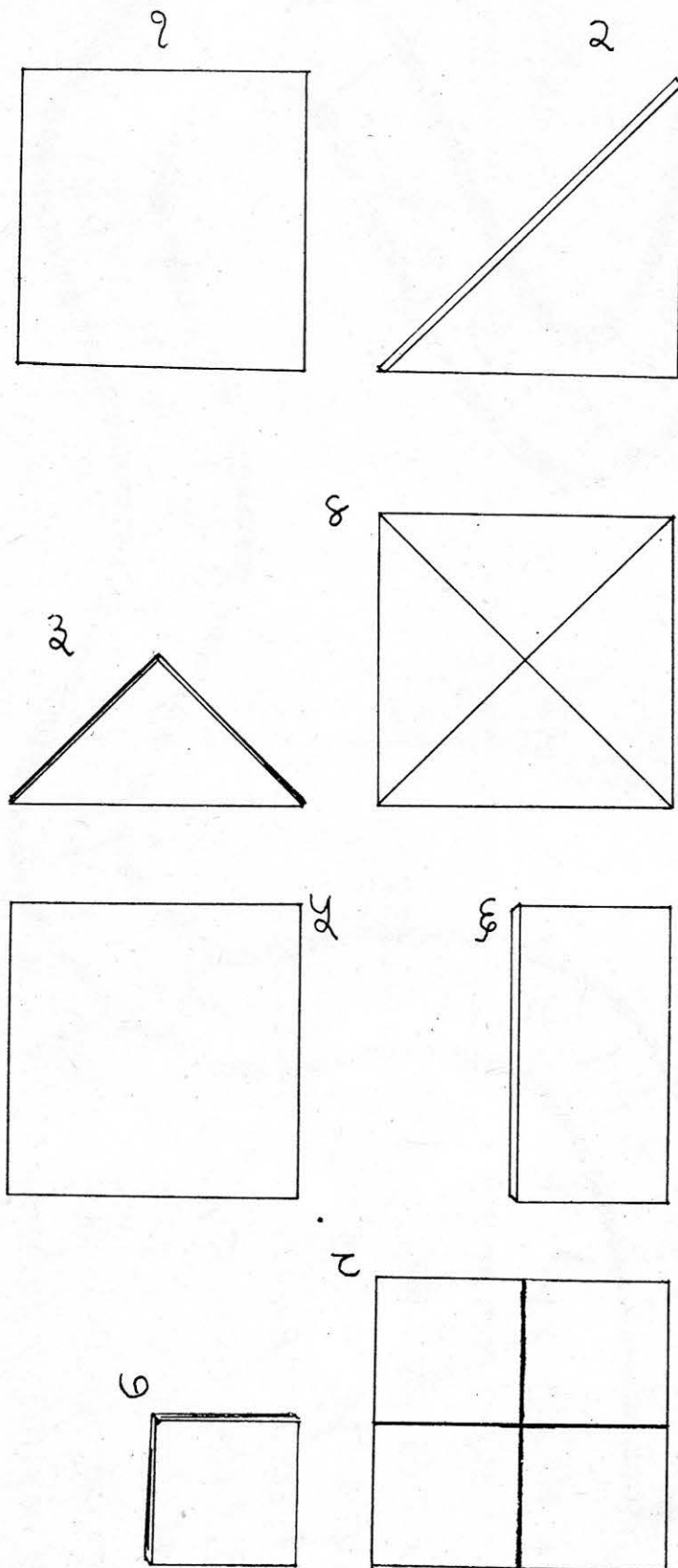
• खरगोश जितने पैर किस-किस जानवर के होते हैं?

• चींटी जितने पैर किस-किस के होते हैं?

• चींटा हर रात दो जूते बनाता है। उसके बनाये जूतों की संख्या।

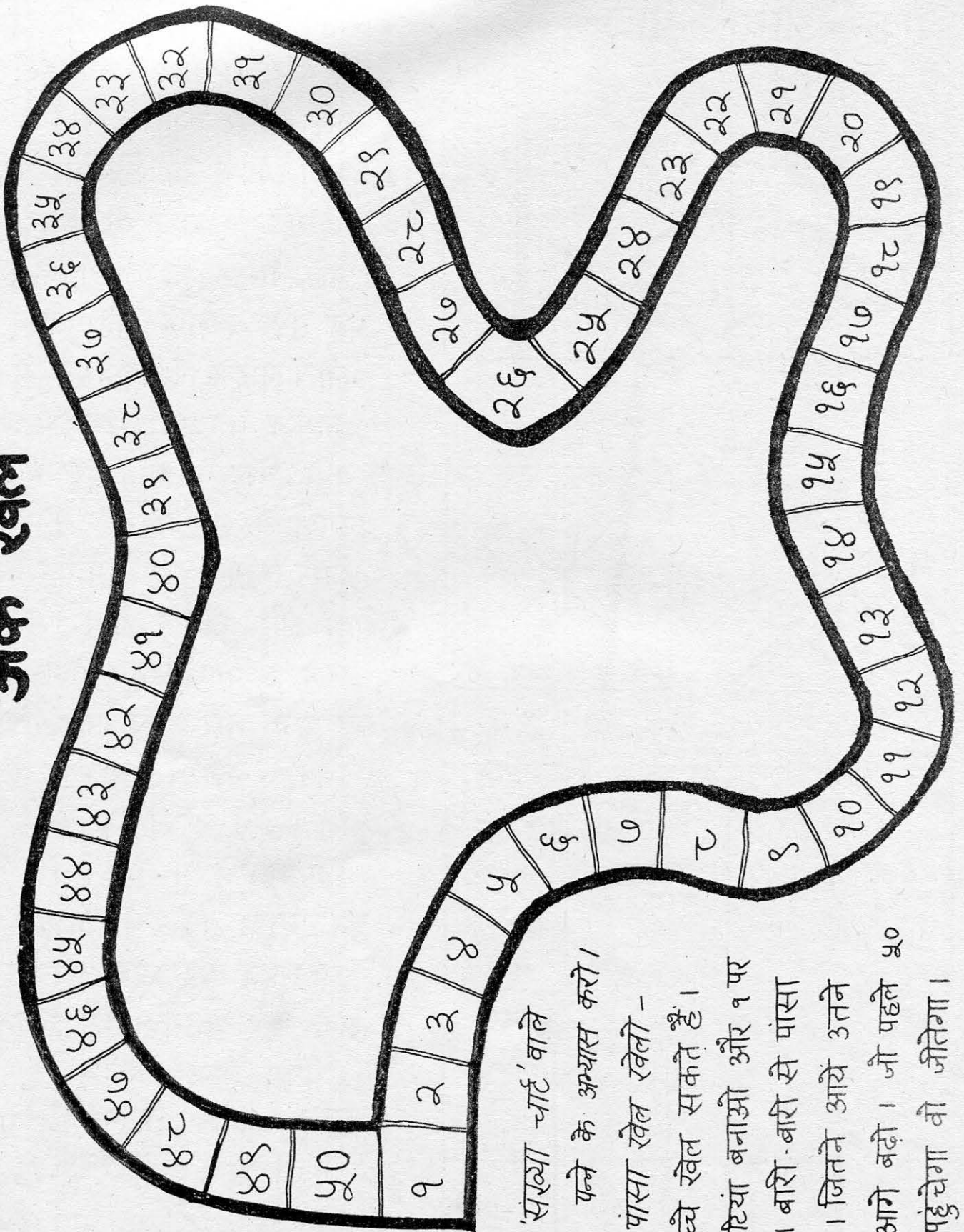
एक रात में	दो रात में	तीन रात में	चार रात	पांच रात	छह रात	सात रात	आठ रात	नौ रात	दस रात
2×1	2×2	3×2	4×2	5×2	6×2	7×2	8×2	9×2	10×2
२	६	१२	१६	१८	२०

एक - आधा - पाव




- एक जैसे दो कागज लो। एक को बीच से मोड़ कर दोहरा करो। जैसे चित्र 2 में हैं।
- इस त्रिकोण के आकार में मुड़े कागज को एक बार फिर मोड़ो। (चित्र 3)
- अब पूरे कागज को खोल लो। लाइन लगी जगह से कागज को फाड़कर अलग करो। कितने भाग हुए, गिनो।
- कागज के हर हिस्से को दूसरे कागज पर जमाकर देखो।
- एक और कागज लो। इसे चित्र 4 की तरह मोड़ो।
- इसे एक बार और मोड़ लो, चित्र 5 की तरह।
- कागज को खोलकर मुड़े हिस्से से फाड़ लो।
- इन टुकड़ों को एक अलग कागज पर जमाओ।
- एक पूरे कागज से कितने पाव हिस्से बने ?
- आधे कागज से कितने पाव (चौथाई) हिस्से बने ?
- आधा बड़ा है या पाव ?

अंक खेल



- 'संख्या चार्ट' वाले पन्ने के अध्यास करो।
- पांसा खेल खेलो - दो बच्चे खेल सकते हैं। दो गोठियां बनाओ और १ पर रखो। बारी-बारी से पांसा फेंको। जितने आयें उतने घर आगे बढ़ो। जो पहले ५० पर पहुंचेगा वो जीतेगा।

क्या डूबा, क्या तैरा ?




पानी पर तैरती हैं।

पत्ती

पानी में डूबती हैं।


ईट




- चित्र कार्डों से छांटो - कौन सी चीजें तैरेंगी और कौन सी डूबेंगी।
- बाल्टी में आसपास की चीजों को डालकर देखो -
क्या डूबा, क्या तैरा ?

उड़न-छू


घड़, घड़, फट्टर, फट्टर।
नयीनयी आवाज निकाल
रहा था तांगे का पहिया। मटरू
मजे से पहिये में धड़ी फसाए दौड़ता जा रहा था।



अचानक तांगा धीरे होना शुरू
हुआ। और फिर तांगा रुक गया। मटरू
उचक कर तांगे के पीछे बैठ गया।



मटरू मजे से बैठा था। तांगेवाला
उसे देख तो सकता नहीं था। मटरू
बैठा तांगे के चलने का इंतजार
कर रहा था।




खिसक
लपक
आ
दौड़


उचक
फिसल
जा
भागना

सरक
रवा
रवड़
रुकना


तभी उसे लगा मानो तांगों की छत पर चलकर कोई पीछे आ रहा है। मटरू झट से तांगों के नीचे घुस गया।



धीरे-धीरे खिसकते-खिसकते वह तांगों के नीचे तक जा पहुँचा और चलाने वाले की जगह पर चढ़कर बैठ गया।



बैठते ही घोंड़े की लगाम थामी और लगाई उसे रक चाबुक। तांगा हवा से बातें करने लगा। और तांगेवाले चाचा, वे तो अभी भी वही खड़े चिल्ला रहे हैं।



- तांगा क्यों रक गया ?
- तांगे वाले चाचा पीछे क्यों गए ?
- मटरू तांगों के नीचे क्यों घुसा ?
- तांगा चले जाने के बाद चाचा ने क्या किया होगा ?
- मटरू तांगों का क्या करेगा

जोड़ो घटाओ और रंग भरें।

जहाँ पर उत्तर २ आता है उस खाने में लाल रंग करो।

जहाँ उत्तर ४ आता उसे हरा करो। जहाँ ५ आकर उसे पीला और

जहाँ ६ उत्तर आकर वहाँ नीला रंग करो।

8-6= 5+9= 9+9= 5-9=

2+3= 8+2= 5-3= 2+2= 6-9=

8-2= 6-8= 3+9= 3+2=

2+8= 6-5= 8-8= 6-2= 9+5=

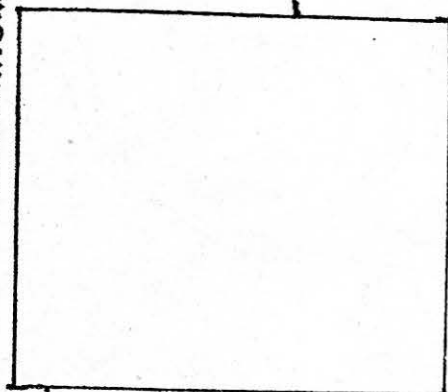
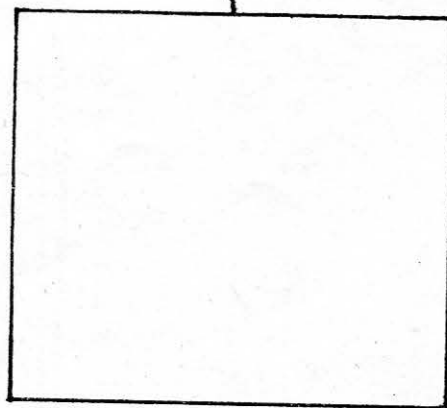


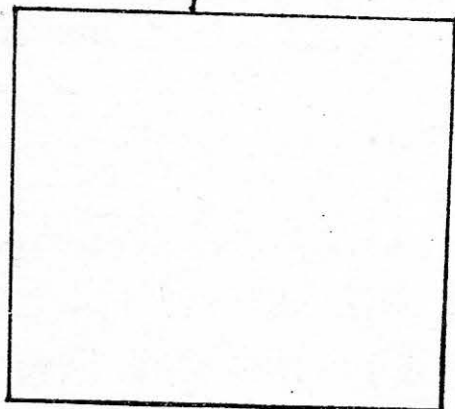


8-2= 9+3= 8+9= 6-9=

6-3= 9-8=

• ऐसे और सवाल स्लेट पर करो।

पकड़ी रास्ता, दूढ़ी श्वाली घर ।
बनाओ चित्र जैसा है ऊपर ।

तारे और गुब्बारे



रज्जू

और


कद्दू

रज्जू के बेटे ने
मिट्टी के ढेरों में
कद्दू के कई बीज
बीये बीये बीये ।



रात का अंधेरा था
चूहों का डैरा था
दो चूहे बीज खाने
गये गये गये ।

सुबह को न ढेर थे
न कद्दू के बीज थे
दो चूहे मोटे हो के
सोये सोये सोये ।



• उसी अक्षर से शुरू होने
वाला दूसरा शब्द लिखो।

मालू - भागा	बीज	-----
सोनु - सोया	कद्दू	-----
धोती - धोई	खाना	-----
चावल - चुना	माना	-----

• आगे बढ़ाओ -

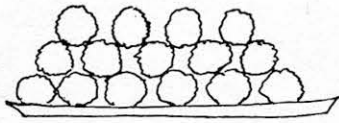
ढेर	चार	चौर
बैर	-----	-----
सेर	-----	-----

बाहर से कंकर, बीज, चिंय या चूड़ी के टुकड़े ले आओ। १५ कंकर गिन लो। पट्टी या फर्शी पर ५ गोले बना लो। एक-एक कंकर उठाते जाओ और ५ जगह बारी-बारी से रखते जाओ। हर एक जगह पर जमा हों रहे कंकर एक भाई के हैं। जब सभी १५ कंकर ५ ढेरियों में बंट जायें तो हर ढेरी के कंकर गिनो। इसी तरह हर सवाल के साथ करो।

भाग

(इसका निशान है ÷)

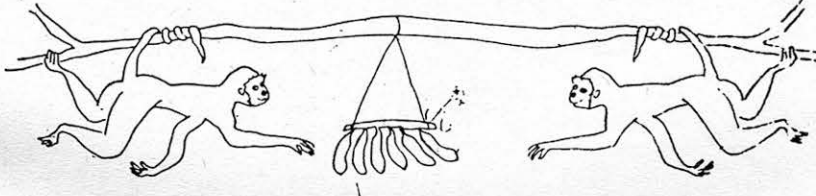
- १५ लड्डुओं को ५ भाइयों में बराबर बांटो। हर एक को कितने मिले?



$$15 \div 5 =$$

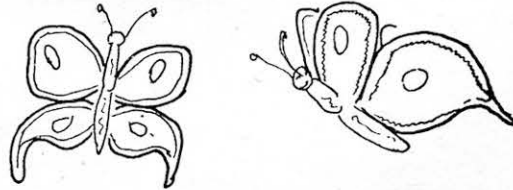

मोहन सोहन राजू श्याम राम

- ६ कैले हैं और २ बंदर। दोनों में बराबर बांटो। किस को कितने मिलेंगे?




$$6 \div 2 =$$

- ८ फूल २ तितलियों को बराबर-बराबर बांटने हैं। हर तितली को कितने फूल मिलेंगे?




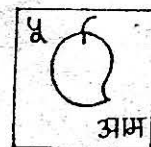

$$8 \div 2 =$$

- १० आम और २ लड़कियां। हर लड़की को कितने आम दोगे?



टिल्लू मुन्नी

हर कार्ड पर एक चित्र और उसका नाम लिखा है। हर कार्ड का एक नम्बर भी है। कार्डों को अलग-अलग तरह से जोड़ कर बहुत से वाक्य बनते हैं। एक वाक्य मैंने बनाया है। आगे लाइनों में संख्या देखकर अपने वाक्य लिखो।



90 रहा है। 99 रही है।
 12 देता है। 13 देती है।
 18 रहा था। 19 रही थी।



90 रहा है।

टिल्लू फूल सूँघ रहा है।



99 रही थी।



99 रही है।




18 रहा था।

इन अंकों के शब्द और चित्र ढूँढो। ढूँढ कर इनसे अगले पन्ने पर वाक्य बनाओ।

1	3	0	92
2	4	9	94
1	6		90
2	8	9	99
1	8	9	98
2	4	0	94
2	4	7	99
2	4		93

दिशा पहचान

नाना जी में कैसे जानूं
चार दिशा कैसे पहचानूं ?
नाक की सीध में होता क्या ?
पीठ की ओर में होता क्या ?
सीधे हाथ और उल्टे हाथ,
दिशा न होती साथ साथ ।
नाना जी में कैसे जानूं,
चार दिशा कैसे पहचानूं ?



अरे, मेरे बेटे बबुआ,
नहीं आता तो क्या हुआ ।
नाक की सीध पर सूरज उगे,
पीठ की ओर पे जाकर डूबे ।
सीधे हाथ से आती हवा,
उल्टे हाथ पर जाती हवा ।
दिशा न आती तो क्या हुआ
तू तो मेरा प्यारा बबुआ ।

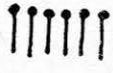

नाना जी
चाचा जी
काका जी



नानी जी




दादी जी
मामी जी
मौसी जी

बंडल-सीक का जोड़






एक बंडल में 10 सीक हैं। गिनते गिनते जब भी 10 सीक हो जायं तो उनका 1 बंडल बना लेना। बाकि सीक अलग गिनना। हर बार गिन कर पता करना कि कितने बंडल हुए और कितनी सीक।

 और 
 सीक + सीक



बराबर   = 1 बंडल 3 सीक = 13 सीक



  और 
 बंडल सीक + सीक

बराबर बंडल सीक = सीक

  और  


2 बंडल 4 सीक + 1 बंडल 2 सीक = बंडल सीक

 और 
 सीक + सीक

बराबर   = बंडल सीक

  और 
 बराबर


☆ ऐसे और भी सवाल पढ़ी पर करो।

• सीक लेकर बंडल बनाओ। इनसे ऐसे और भी अभ्यास बनाओ-करो। टीम बनाकर एक दूसरे के लिए सवाल बनाओ और हल करो।


एडम एड भई एडम एड, जाने कैसा है ये पेड़ ।

एक बार एक जंगल में अजीब पेड़ ऊगा । उसके फूल लाल थे, फल पीले और पत्तियां नीली । उसके हर फूल में पांच पंखी थीं । और फल दो-दो की जोड़ी में हो होते थे । हर टहनी पर पांच जोड़ी पत्तियां थीं, यानि हर टहनी में दस पत्तियां । इसी पेड़ का चित्र नीचे दिया है ।

• इसके अनुसार पेड़ में रंग भरो ।



एक फूल में पंखी हैं । $1 \times 5 =$
 * * दो फूलों में पंखी हैं । $2 \times 5 =$
 * * * * में पंखी हैं । $8 \times \dots =$

एक टहनी में पत्तियां हैं । $x \dots =$
 में पत्तियां हैं । $x \dots = 20$
 एक गुच्छे में फल हैं । $x \dots =$

• तो बताओ...

पांच फूलों में कितनी पंखी? $x \dots =$

तीन टहनियों में कितनी पत्तियां? $x \dots =$

आठ गुच्छों में कितने फल? $x \dots =$


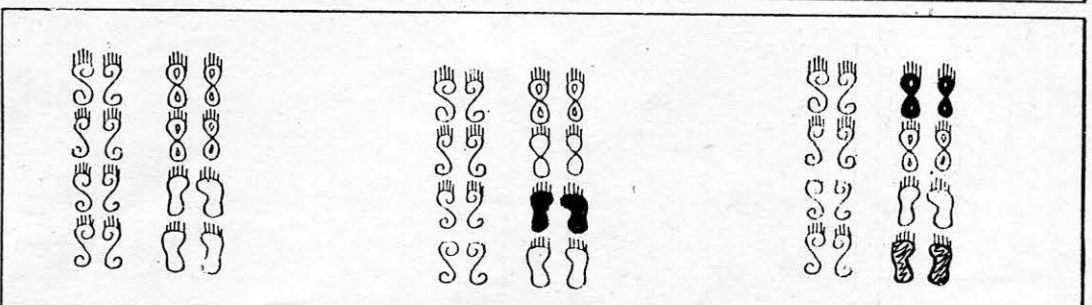
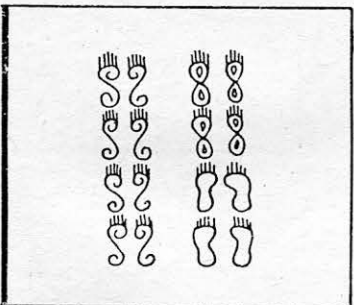
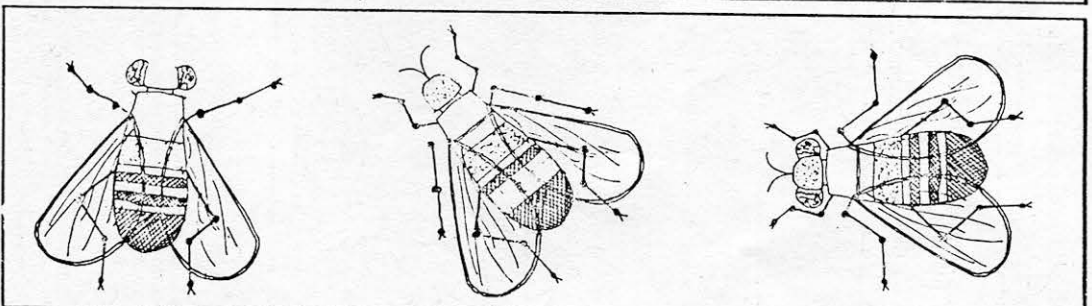
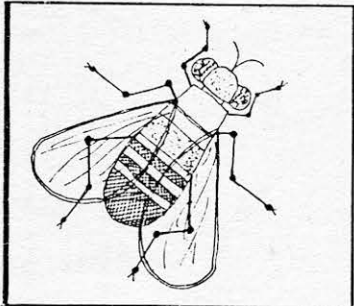
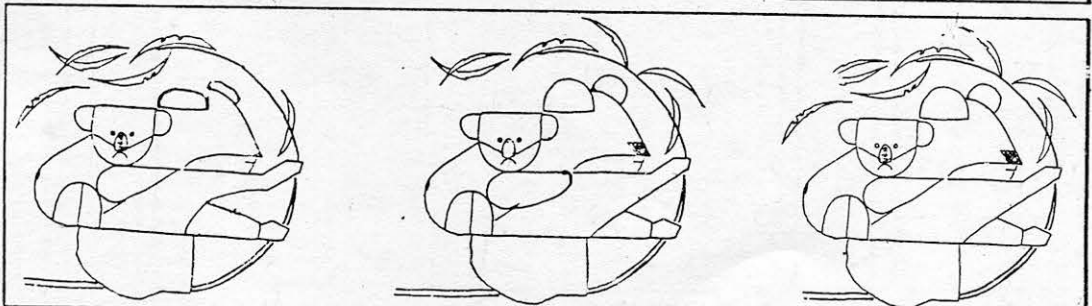



१ फूल	२ फूल	३ फूल	४ फूल	५ फूल
५ पंखी	१० पंखी	१५ पंखी	२० पंखी	२५ पंखी
६ फूल	७ फूल	८ फूल	९ फूल	१० फूल
३० पंखी	३५ पंखी	४० पंखी	४५ पंखी	५० पंखी


• क्या तुम ऐसी तालिकाये पत्तियों और टहनियों के लिये बना सकते हो? फल और गुच्छों के लिये भी स्लैट पर तालिका बनाओ ।

• पांच पंखी वाले कौन-कौन से फूल तुम्हारे गांव में उगते हैं? ऐसे कुछ फूल लाकर तालिका जांचो ।

साथी ढूँढो

* हर लाइन में पहले चित्र जैसा एक ही है। उसे पहचानकर उसमें नाम लिखो।





नपाई

आज हम स्कूल में नपाई करेंगे। शुरू करने से पहले अंदाजा लगाओ कि बरामदा कितना लंबा है? अगर तुम एक सिरे से दूसरे सिरे तक चल कर जाओ तो कितने कदम बनेंगे? चलो बरामदे के एक छोर से दूसरे छोर तक चल कर देखते हैं। कितने कदम बने ?

नाप :-

टेबिल बित्ते अंगुल लंबा है।

तरव्ता बित्ते अंगुल लंबा है।

बरामदा कदम लंबा है।

बरामदा कदम चौड़ा है।

मैदान डंडे लंबा है।

टेबिल, तरव्ते, कुर्सी जैसी चीजों को कदमों से तो नहीं नाप सकते। इन्हें किससे नापें? किसी और चीज से से नाप सकते हैं क्या ?

इन्हें बित्तों और अंगुल से नापो। स्कूल की अन्य चीजें भी नापो।

• क्रम में लिखो।
पहले सबसे लंबा।

मैदान

बरामदा

- ऐसे और वाक्य बनाओ। और चीजों के साथ।
मैदान बरामदे से लंबा है। बरामदा कक्षा से लंबा है।
पट्टी तरव्ते से छोटी है। पट्टी माचिस से लंबी है।


- स्कूल की और चीजें भी नापो।
- घर में या खेलते समय तुम और किन चीजों से नापते हो?

पारुल और चाँद


पारुल चलती चाँद चलता,
 चलता पारुल संग ।
 पारुल दौड़ी चाँद दौड़ा,
 दौड़ा पारुल संग ।
 पारुल ठिठकी चाँद ठिठका,
 ठिठका पारुल संग ।
 पारुल ठहरी चाँद ठहरा,
 ठहरा पारुल संग ।

✧

✧



✧



पारुल	चाँद	सुरता	टिल्लू
दौड़ी	दौड़ा	दौड़ी	दौड़ा
चलती	चलता	-----	-----
ठिठकी	ठिठका	-----	-----
ठहरी	ठहरा	-----	-----
पकड़ी	-----	-----	-----
गाती	-----	-----	-----

तुम भी देखो कि
 चाँद तुम्हारे साथ
 दौड़ता है या नहीं।

- तुम्हारे रुकने पर
 रुकता है या नहीं ?

मौखिक हल करो...

सुरता के पास ५ आम थे। टिल्लू ने उसे दो आम और दिये। सुरता के पास अब कितने आम हैं?

मटरू के पास ४ बैल थे। कल्लू से उसने ५ बैल और लिये। उसके पास कुल कितने बैल हैं?

रानू के पास १५ गोटियां थीं। उसे ४ गोटियां और मिलीं। उसके पास अब कितनी गोटियां हैं?


राजू के पास ८ बकरियां थीं। उनमें से उसने ३ बेच दीं। उसके पास कितनी बकरियां बचीं?

बंदर १७ केले लाया। उसने ५ रखा लिये। उसके पास कितने केले बाकि बचे?

लक्ष्मी ने १ रुपये के ५ के हिसाब से बिही खरीदे। उसे ६ रुपये में कितने बिही मिले?

आक्टोपस नामक समुद्री जीव की आठ बाहें होती हैं। इनसे ही यह मछली पकड़ता है। २ आक्टोपस की कितनी बाहें होंगी?



कक्षा में कुल १५ बच्चे हैं। इनमें से ७ पढ़ रहे हैं। बाकि शैतानी कर रहे हैं। कितने बच्चे शैतानी कर रहे हैं?



• साथ के वाक्यों को क्रम में
लिखकर कहानी बनाओ।

- लछमी ने गुस्से में चिमटा उठा लिया।
- रोटी देखकर चूहे और मेंढक ने एक चाल सोची।
- मेंढक ने जाकर लछमी से रोटी मांगी।
- मेंढक कूद कर बचा और चूहा रोटी ले भागा।
- लछमी रोटी बना रहा थी।

• वाक्यों को सही चित्र से जोड़ो और उसका अंक लिखो।



७ आगे...

कौन सी चीज़ कहाँ ?

शालू को बहुत सी चीज़ों के नाम आते हैं। उसने नामों को लिख-लिखकर पढ़ी भरली। वो नाम मैंने नीचे लिख दिये हैं। अब शालू ये सोच रही है कि किस नाम को किस खाने में लिखना है। क्या तुम उसकी मदद कर सकती हो? बाकी खानों में तुम खुद नाम सोचो और चुनकर सही जगह लिखो।

अक्षर	जानवर या पक्षी	पेड़ या पौधा	खाने पीने का सामान	खेल का नाम या सामान
ब	बकरी	बबूल	बेर	बल्ला
म	मगर	-----	-----	-----
क	-----	-----	कंकड़	-----
ल	-----	-----	-----	लट्टू
प	-----	पीपल	-----	-----
ग	-----	-----	-----	गिल्ली
श	-----	-----	-----	-----

शालू की सूची

शक्कर, कबड़डी, महुआ, पपीहा, मार कुटाई, लौमड़ी, गुलाब-जामुन, शेर, शीशम, ककड़ी, शतरंज, लजनी, कौसम, बल्ला, मगर, लड्डू, गाय, बेर, बबूल, पेड़ा, बकरी, पीपल, गिल्ली, कबूतर, पतंग, मसाला, गैदा, लट्टू

♦ ऐसे ही खेल तुम और अन्नों के साथ खेल सकते हो। अलग तरह के खाने भी बना सकते हो - जैसे, ट से शुरू होने वाली गोल या लाल चीज़।

चलो अभ्यास कर लें...

$$\begin{array}{r} 6 \\ - 2 \\ \hline \end{array}$$

$$\begin{array}{r} 22 \\ + 12 \\ \hline \end{array}$$

$$\begin{array}{r} 3 \\ \times 2 \\ \hline \end{array}$$

$$\begin{array}{r} 7 \\ - 3 \\ \hline \end{array}$$

$$\begin{array}{r} 15 \\ + 12 \\ \hline \end{array}$$

$$\begin{array}{r} 22 \\ - 11 \\ \hline \end{array}$$

$$\begin{array}{r} 8 \\ - 3 \\ \hline \end{array}$$

$$\begin{array}{r} 8 \\ + 5 \\ \hline \end{array}$$

$$\begin{array}{r} 18 \\ + 11 \\ \hline \end{array}$$

$$\begin{array}{r} 5 \\ \times 2 \\ \hline \end{array}$$

$$\begin{array}{r} 5 \\ + 5 \\ \hline \end{array}$$

$$\begin{array}{r} 3 \\ \times 5 \\ \hline \end{array}$$

$$\begin{array}{r} 6 \\ + 3 \\ \hline \end{array}$$

$$\begin{array}{r} 5 \\ - 3 \\ \hline \end{array}$$

$$\begin{array}{r} 6 \\ - 5 \\ \hline \end{array}$$

$$\begin{array}{r} 8 \\ - 6 \\ \hline \end{array}$$

$$\begin{array}{r} 7 \\ + 2 \\ \hline \end{array}$$

$$\begin{array}{r} 8 \\ - 2 \\ \hline \end{array}$$

$$\begin{array}{r} 8 \\ \times 2 \\ \hline \end{array}$$

$$\begin{array}{r} 8 \\ \times 5 \\ \hline \end{array}$$

- ऐसे और भी सवाल करो पट्टी पर, कापी पर धूल पर।
- ★ अपने दोस्त के लिए और सवाल बनाओ। उसके बनाए सवाल तुम करो।

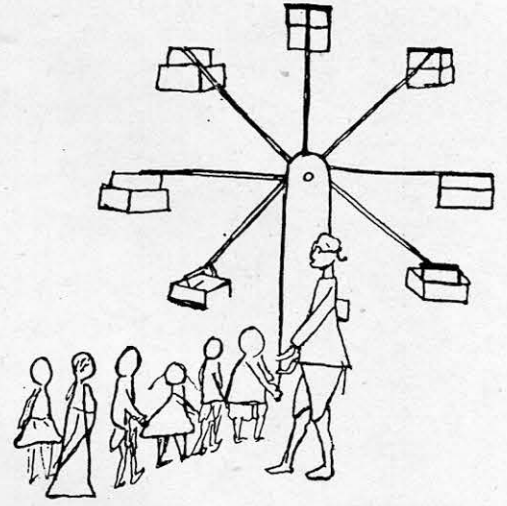
$$\begin{array}{r} 25 \\ - 13 \\ \hline \end{array}$$

$$\begin{array}{r} 2 \\ \times 10 \\ \hline \end{array}$$

झूलेवाला

एक बार एक गांव में एक झूलेवाला आया। उसके पास एक बहुत बड़ा झूला था। उस झूले में आठ पालकियां थीं। झूला चलता तो पालकियां गोल-गोल घूमतीं।

देखते-देखते वहां बहुत से बच्चे इकट्ठे हो गये। सब झूलना चाहते थे। झूलेवाले ने उनकी लाइन बनवा दी। बच्चे लाइन से झूले में बैठने लगे।



एक पालकी में पांच बच्चे बैठ सकते थे। झूला जब भर गया तो झूलेवाले ने बाकि बच्चों को रोक दिया। पहली पाली के बच्चे जब झूलकर उतरे तो फिर लाइन आगे बढ़ी।

पर यह क्या? झूलनेवालों का तो मन ही नहीं भरा। वे फिर से लाइन में लग गये। बस, झूलेवाला झुलाता रहा और बच्चे झूलते रहे। अभी भी शायद कोई उस गांव में जाये तो झूला चलता हुआ पायेगा।

• झूले के बारे में कुछ सवाल

- झूले में एक बार में कितने बच्चे झूल सकते थे?

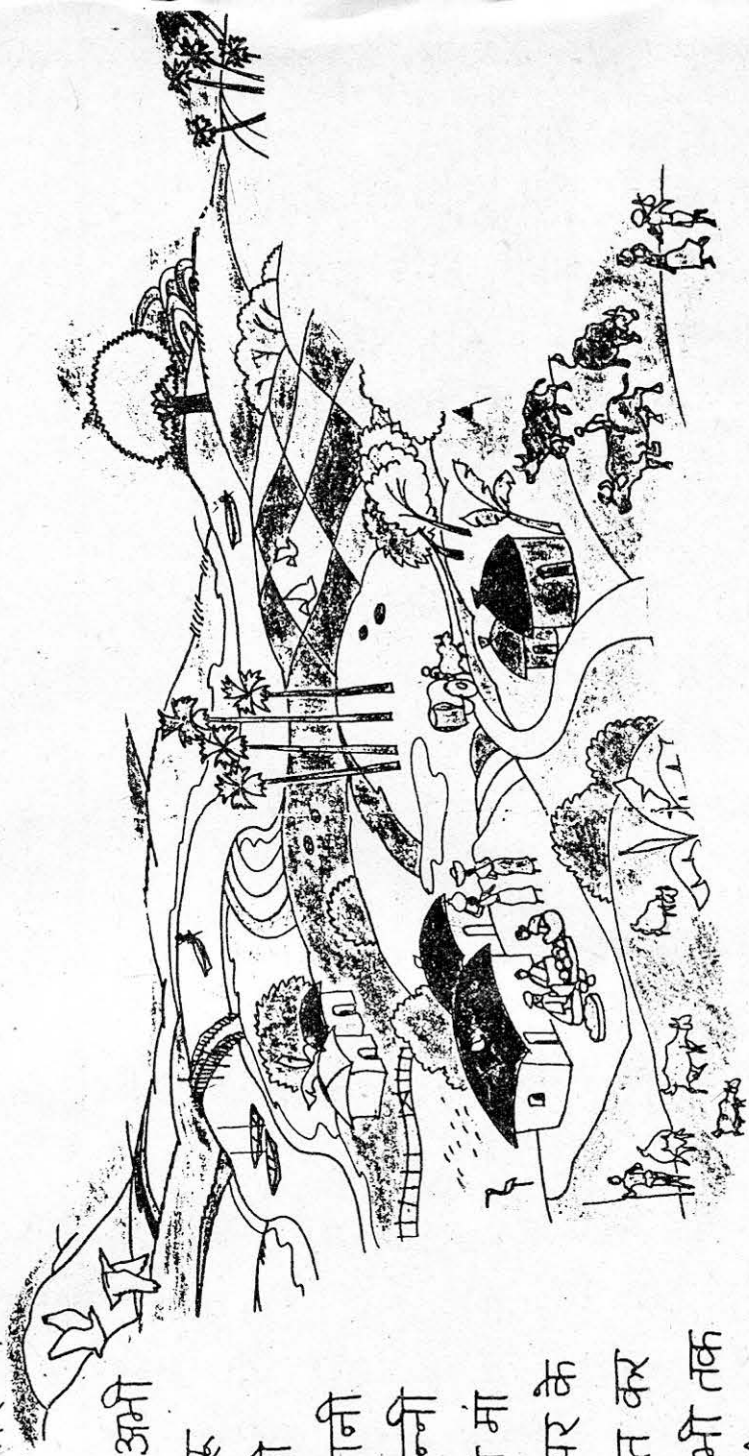
8×5

- जब 8 पालकियां भरीं थी तो झूले में कितने बच्चे थे?

शाम का समय है। गांव में धीरे-धीरे हलचल बढ़ रही है। दिन भर के बाद लोग घर लौट रहे हैं।

बिसनू दोर लेकर लौट रहा है। मुनिया और उसका पति खेत से आ रहे हैं। डाकिया बाबू साइकिल से लौट रहे हैं। कल्लू मल्लाह अपनी नाव वापिस ला रहा है। उधर जंगल से कलसो और लखन चले आ रहे हैं। और सड़क पर सुक्कू चचा अपनी बैलगाड़ी में आ रहे हैं। उन्होंने आज बाजार में घड़े बेचे हैं।

सुखवती ने तो अभी से ही खाना बनाना शुरू कर दिया है। पर लछ्मी और सुरता अभी तक पानी ला रही हैं। टिल्लू मुन्नी नदी गये हैं। बिजना की माँ और उनकी सहेलियाँ पर के बाहर बैठ कर बात-चीत कर रही हैं। बिजना तो अभी तक झूला झूल रही है। और एक चूड़ी वाले को चूड़ी बेचते हुए देख रही है। पास ही बड़ के नीचे बड़े-बड़े बात-चीत कर रहे हैं।



• इस चित्र में चीजे पहचानो / जो छूट गया है उसे बनाकर चित्र पूरा करो।

• खाली जगह में अपने गाव या मोहल्ले का चित्र बनाओ।

• बातचीत करो -

- तुम्हारे गाव या मोहल्ले में शाम की क्या-क्या होता है?

- यहां पर दिखाई गई चीजों को देखो। इनमें से क्या-क्या तुम्हारे यहां भी है? और क्या-क्या तुम्हारे यहां नहीं है? जो नहीं है उस पर गोला लगाओ।

बूजी ने खाया गुड़

बूजी बंदरिया बड़ी ही नटखट थी। एक दिन वह नाई से बोली - "नाई, नाई! मेरा सिर मूँड दो।"

नाई ने सिर मूँड दिया तो बूजी उसका उस्तरा लेकर भाग गई। नाई चिल्लाया - अरी बूजी, मेरा उस्तरा कहाँ ले जा रही हो?

बूजी बोली -

'मेरे बाल तेरे पास
तेरा उस्तरा मेरे पास।'



आगे जाकर बूजी को एक घसियारा मिला। वह घास छोल रहा था।



बूजी ने उस्तरा फेंक दिया और घास उठा कर भाग गई। घसियारे ने आवाज दी - यह क्या बूजी?

बूजी बोली -

'मेरे बाल नाई के पास
नाई का उस्तरा तेरे पास
तेरी घास मेरे पास।'

भागते भागते बूजो
 को एक बनिया मिल गया।
 उसके पास गुड़ था।
 बूजो ने घास फेंकी और
 गुड़ लेकर भाग खड़ी हुई।
 बनिया चिल्लाया -
 बूजो ? बूजो ?



बूजो बोली -

मैंरे बाल नाई के पास
 नाई का अस्तरा घासी के पास
 घासी की घास तैरे पास
 तैरा गुड़ मैंरे पास।

यह कह कर बूजो
 गुड़ खाने लगी।

- नीचे से चुनकर भरो -
 बूजो थी।
 उदास, खुश, नटखट, चतुर
 बहादुर, बेवकूफ, डरपोक
- सही जोड़ी बनाओ -
 नाई घासी बनिया किसान
 हंसिया तराजू अस्तरा हल

बूजो के बाल	बाल दिये	अस्तरा लिया
नाई का अस्तरा	अस्तरा दिया ली
घासी की घास
बनिये का गुड़

- ✦ बूजो ने घासी को क्या दिया ?
- ✦ बूजो ने बनिये से क्या लिया ?

- कहानी सब को सुनाओ।
- ऐसी और कहानियां ढूंढो, बनाओ और सुनाओ।

कृद् और मौखिक सवाल

रुक मधुमक्खरी ने ४ सेमल और ५ टैसू के फूलों से रस लिया। फिर वह दूध की तरफ उड़ गई। उसने कुल कितने फूलों से रस लिया?



१० बच्चे मिट्टी के खिलौने बना रहे थे। हर बच्चे ने १ हाथी और १ चूहा बनाया। सभी ने मिलकर कुल कितने जानवर बनाए?

गबरू पुस्तकालय की किताब पढ़ रहा था। उसने तब तक १२ पेज पढ़े थे। किताब में २५ पेज हैं। गबरू को कितने पेज और पढ़ने हैं?

राहुल के पास ६ कंचे हैं। शेरू के पास उससे दुगुने कंचे हैं। दोनों के पास कितने कंचे हैं?


रमा के पास २० सिक्के हैं। रेणु के पास रमा से आधे सिक्के हैं। रेणु के पास कितने सिक्के हैं?

गुरुजी ने ४ बच्चों को बेर से आने के लिए डाटा, ४ और बच्चों को शीर मचाने के लिए गुरुजी से डांट पड़ी। गुरुजी ने कुल कितने बच्चों को डांटा?

गुरुजी रंगीन पेंसिल के ५ डिब्बे लाए। हर डिब्बे में ६ पेंसिल हैं। गुरुजी के पास कुल कितनी पेंसिल हैं?

• ऐसे और भी सवाल करो। अपने दोस्त के लिए सवाल बनाओ भी!..

बाज जो कि मानता है कि वो जंगल का राजा है। क्योंकि वो ज्यादा दूर तक देख सकता है।



मुर्गा जो किसी भी जानवर और पक्षी की आवाज़ निकाल सकता है।



मोर जो हमेशा अपने आप को सजाता संवारता रहता है।

गपड़म - घबरालू शेर। सब लोग उसका नाम लते ही हंसते हैं - हो, हो, हो।

