


इतिहास

कक्षा-6 में तुमने जाना था

चित्र देखकर खाली स्थान भरो-



शुरू-शुरू में होते थे।



फिर कई जगहों पर उन्होंने शुरू की।




और कुछ जगहों पर ।




फिर कहीं-कहीं बसे।



सिन्धु नदी के मैदान में ।



फिर पशुपालक आए।

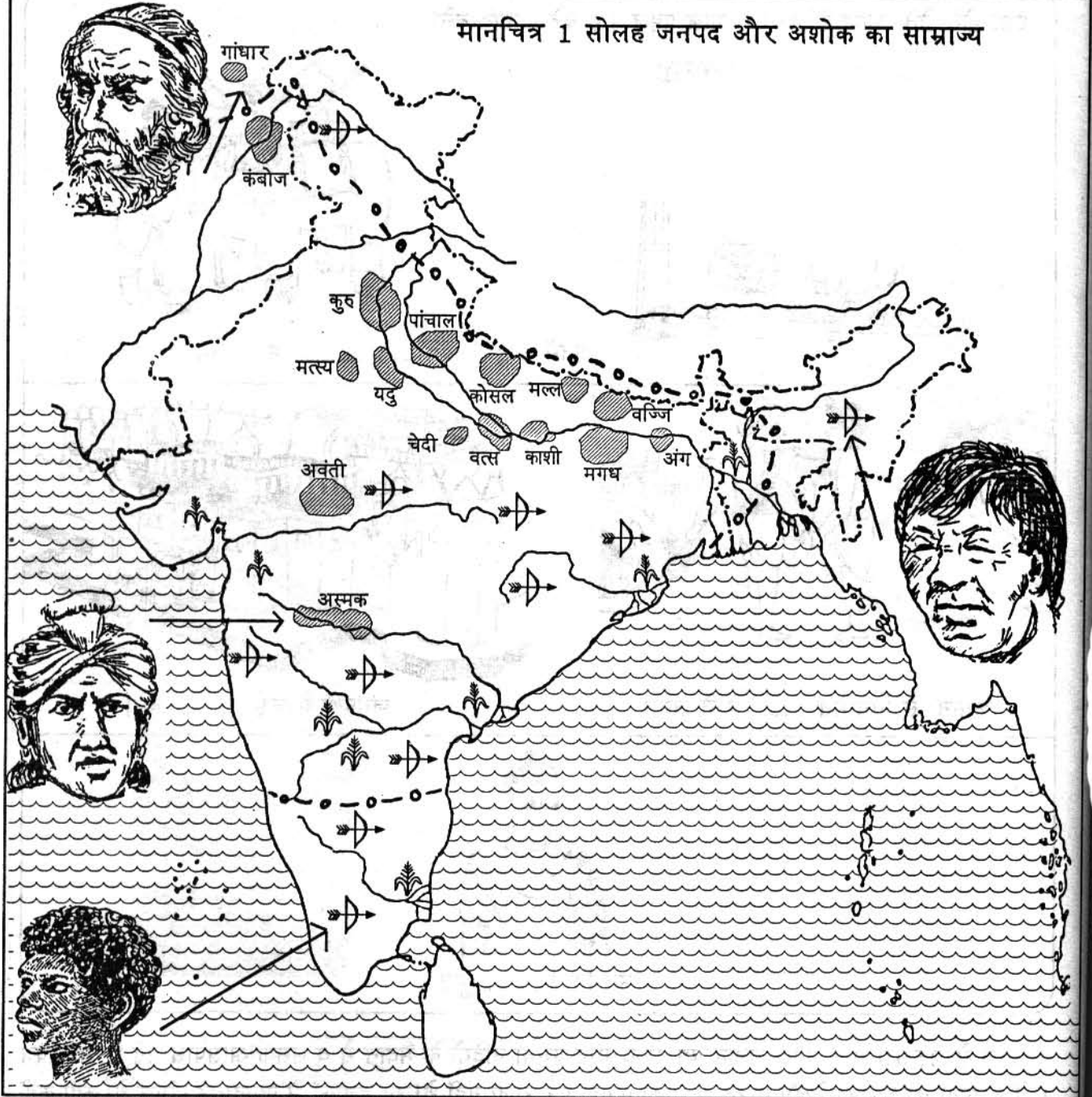


उन्होंने धीरे-धीरे



वे..... करते थे।

मानचित्र 1 सोलह जनपद और अशोक का साम्राज्य




Based upon Survey of India Outline map printed in 1979. The territorial waters of India extend into the sea to a distance of 12 nautical miles measured from the appropriate baseline. c. Govt of India copyright.


संकेत

	जनपद		अशोक के साम्राज्य की सीमा
	खेती करने वालों का इलाका		शिकारियों का इलाका
	भारत की वर्तमान बाह्य सीमा		

ऐसा होते-होते, आज से 2500 साल पहले 16 बड़े जनपद बने।



इनमें व होने लगे।



किसानों से नियमित जाने लगा।

जनपदों में कई बने।



उन दिनों..... .. हुए।

आज से 2500 साल पहले जनपद या राज्य गंगा यमुना नदियों के मैदान में व उसके आसपास बने थे। मानचित्र 1 में जनपदों का इलाका देखो। भारत में बाकी जगहों पर राजा नहीं थे। उन इलाकों में ज्यादातर जंगल थे। कहीं-कहीं शिकारी लोग और कहीं-कहीं किसानों की छोटी-छोटी बस्तियां थीं।

मगध जनपद में अजातशत्रु और महापद्मनन्द जैसे राजा हुए। उन्होंने दूसरे जनपदों को हरा कर मगध का राज्य बहुत बड़ा बनाया। फिर मगध राज्य में मौर्य वंश के राजा हुए जैसे चन्द्रगुप्त, बिन्दुसार और अशोक। उन्होंने मगध के राज्य को बहुत दूर-दूर तक फैलाया। मानचित्र 1 में अशोक के समय में मगध राज्य की सीमा देखो। जनपदों के अलावा और कौन से इलाके मगध राज्य में आ गए थे?