



चौकोर बनाओ



क्या तुम इन बिन्दुओं को चार सीधी रेखाओं से इस तरह जोड़ सकते हो कि उनसे एक चौकोर बन जाए।


एक उबारु सवाल

इन 12 आकृतियों में से किन-किन को बिना पेंसिल उठाए बनाया जा सकता है?



झटपट बताओ!

किस रंग की चींटियों की संख्या सबसे ज़्यादा है?



खेल-खेल में

- 1 और 1,00,000 के बीच किसी एक संख्या को चुनो।
 - उसे 2 से गुणा करो।
 - उत्तर में 5 जोड़ो।
 - फिर 50 से गुणा करो।
 - तुम्हारा (इस साल का) जन्मदिन यदि बीत चुका है तो उत्तर में 1758 जोड़ो, नहीं तो 1757 जोड़ो।
 - इस संख्या में से अपने जन्म के साल की चार अंकों वाली संख्या को घटाओ।
- जो संख्या मिली उसमें क्या खास है? इसमें सोची गई संख्या तथा तुम्हारी उम्र दोनों हैं।