

जश्रे-तालीम, MLAC एकलव्य, होशंगाबाद


कक्षा पाँचवी के लिए, गणित – लिखित (सितंबर 2020)



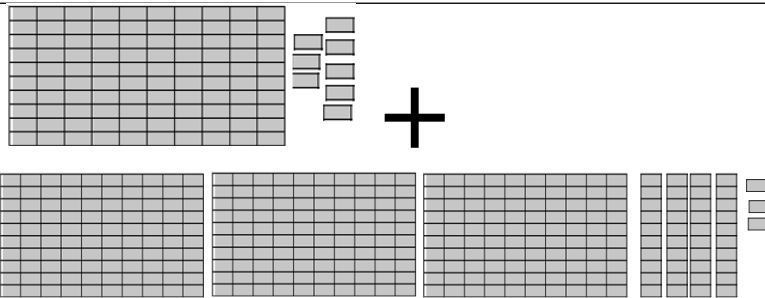
मेरा नाम ----- कक्षा -----

पिता का नाम ----- माता का नाम -----

प्रश्न – 1) 100 के, 10 के समूह बनाकर गिनो और लिखो कुल कितने है।★



प्रश्न – 2 जोड़ हल करो ।



$$108 + 343 = \boxed{}$$


प्रश्न – 3 जोड़ के सवाल हल करो।

$$\begin{array}{r} 11 \\ 6 \\ + \\ 354 \end{array}$$

परी के पास 48 कंचे थे। राजेश ने उसे 18 कंचे और दे दिए। बताओ परी के पास कुल कितने कंचे हो गए।

$$\begin{array}{r} 100 + 10 \\ + 6 \\ + 300 + 50 \\ + 4 \end{array}$$

प्रश्न – 4 गुणा के सवाल हल करो।




$$13 + 13 + 13 + 13 + 13 + 13 + 13 + 13 + 13 + 13 =$$

1 भुट्टा 25 रुपये का मिलता है तो 13 भुट्टे कितने रुपये के मिलेंगे? $25 \times 13 =$

प्रश्न – 5 घटा के सवाल हल करो।

$$\begin{array}{r} 35 \\ 3 \\ - 116 \end{array}$$



$$- 116 =$$

राजू के पास 70 रुपये थे। 42 रुपए की उसने शक्कर ले ली। बताइये, राजू के पास कितने रुपये बचे?

प्रश्न – 6 भाग के सवाल हल करो।




27 पत्ती की एक डाली में से 3-3 पत्ती कितने बार निकाल सकते हैं = $27 \div 3$

रमेश ने 12 कॉपी 126 रुपए की खरीदी।
तो बताओ एक कापी की कीमत क्या होगी ?

$$12) 126 ($$

प्रश्न 7 - यदि एक रोटी चार बच्चों को बराबर बाँटी जाये तो हर एक बच्चे को कितनी रोटी मिलेगी ?



बच्चों का नाम -

पिता का नाम

कक्षा

दिनांक

केन्द्र का नाम

गणित मौखिक –कक्षा पाँचवी मौखिक में

सवाल क्रमांक 1, 2, 3, 6, 9,10,11,12, 13 सवाल आप पढ़े बाकी सवाल बच्चों स्वयं पढ़कर करेंगे।

क्र	सवाल	बच्चों के द्वारा दिया जवाब	
1	दो सौ उनतालीस में 1 जोड़ने पर कौनसी संख्या मिलेगी ?		
2	एक हजार निन्यानवे में 1 जोड़ने पर कौनसी संख्या मिलेगी ?		
3	दो हजार पाँच सौ सडसठ में कितने सैकड़े है ?		
4	56 संख्या पढ़कर उतने कंकड उठाने के लिए कहे।	संख्या पढ़ी	कंकड दिए
5	56 (छप्पन) में 5 का मतलब क्या है और उतने कंकड उठाने के लिए कहे।	मतलब बताया	क्या कितने कंकड दिए
6	संख्या निन्यानवे के बारे में कोई तीन बातें बताओ।		
7	245 और 256 में सबसे छोटी संख्या कौनसी है। और क्यों ?	संख्या पढ़ी	
8	इन संख्याओं को छोटे से बड़े क्रम में जमाओ। 1210, 718, 1456, 124	सबसे छोटी संख्या कौनसी बताई	संख्या पढ़ी - संख्या जमाई -
9	शिवानी के पास 429 रुपए थे, बाजार उसने 130 रुपए की चप्पल खरीद ली तो बताओ शिवानी के पास कितने रुपए बचें?	कितने रुपए बचेंगे बताया -	कैसे किया।
10	3 का पहाड़ा सुनाओ।	सुनाया -	
11	10 का पहाड़ा सुनाओ।	सुनाया -	
12	13 का पहाड़ा बनाकर दिखाओ।	बनाकर दिखाया -	
13	जोड़, और गुणा का मतलब क्या होता?		

हस्ताक्षर

1210	718	1456	124
245	256		